
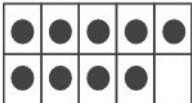
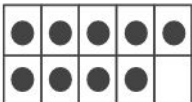
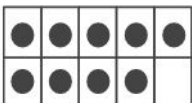
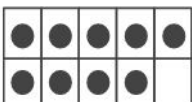
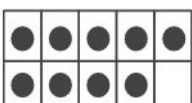
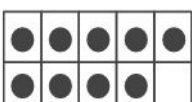


RESOLUÇÃO DA ATIVIDADE PRINCIPAL - MAT02_04NUM07.

Vamos jogar o jogo “Quantos pontos a mais?”,
Observe o quadro dado. Ao lado, anote o número ditado pela sua professora.
Em seguida, responda: Quantos pontos a mais são necessários para formar o
número dado por ela?

*Embora os números estejam colocados aqui em ordem crescente, no momento da
atividade, os cartões devem ser mostrados aleatoriamente.*

	NÚMERO	RESULTADO
	11	2
	12	3
	13	4
	14	5
	15	6
	16	7
	17	8

	18	9
	19	10