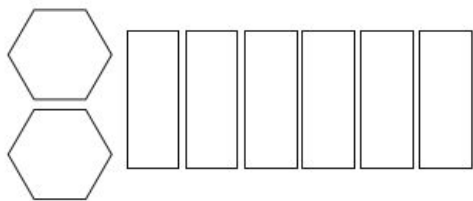
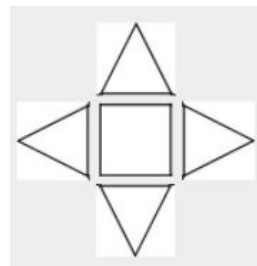


DESAFIO - AGORA É COM VOCÊ!

Observe os polígonos abaixo que representam as faces e bases de um poliedro. Nomeie os poliedros de acordo com os polígonos que compõem a sua planificação.



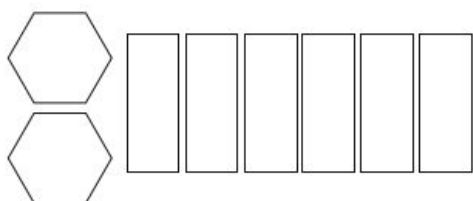
POLIEDRO: _____



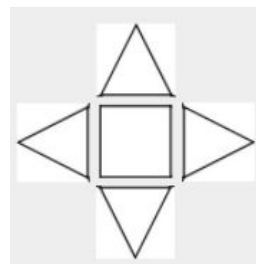
POLIEDRO: _____

DESAFIO - AGORA É COM VOCÊ!

Observe os polígonos abaixo que representam as faces e bases de um poliedro. Nomeie os poliedros de acordo com os polígonos que compõem a sua planificação.



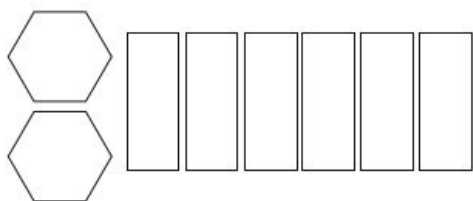
POLIEDRO: _____



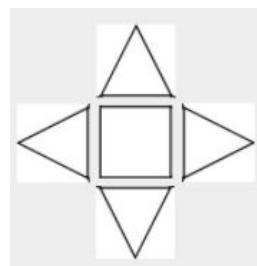
POLIEDRO: _____

DESAFIO - AGORA É COM VOCÊ!

Observe os polígonos abaixo que representam as faces e bases de um poliedro. Nomeie os poliedros de acordo com os polígonos que compõem a sua planificação.



POLIEDRO: _____



POLIEDRO: _____