

**Resolução da Retomada - MAT3\_03NUM05****Painel de Solução**

JULIO GANHOU UMA CAIXA DE ESTALINHOS DE SUA MÃE. NA CAIXA HÁ 100 ESTALINHOS. ELE ESTOUROU 30. QUANTOS SOBRARAM?

**Solução 1**


O aluno pode solucionar o problema utilizando uma operação de subtração.

$$100 - 30 = 70$$

Sobraram 70 estalinhos.

**Solução 2**

O aluno pode representar a situação utilizando- se desenhos.

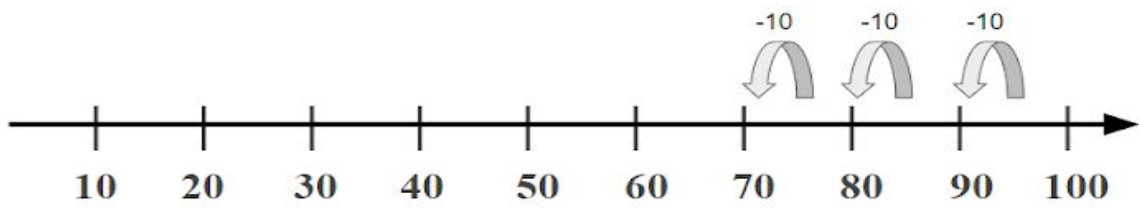


Obtendo 70 como resposta.

**Solução 3**

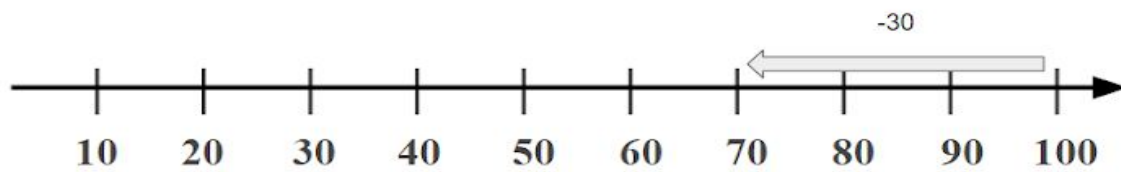
Utilizando a reta numerada temos as seguintes soluções:

$$100 - 10 - 10 - 10 = 70$$



**OU**

$$100 - 30 = 70$$



Sobraram 70 estalinhos.