


Atividade complementar - MAT1_01NUM7

1) OBSERVE O QUADRO ABAIXO E LIGUE AS QUANTIDADES:




7



8


4



6

5

2) JOANA FARÁ UMA SALADA DE FRUTAS E FOI À FEIRA COMPRAR ALGUMAS FRUTAS. VEJA NO QUADRO ABAIXO AS FRUTAS QUE JOANA COMPROU:



QUAL FRUTA JOANA COMPROU EM MENOR QUANTIDADE? POR QUE?

QUANTAS FRUTAS JOANA COMPROU?

[DESAFIO]

CARLOS TINHA UM AQUÁRIO COM DOIS PEIXES VERDES. AGORA A QUANTIDADE DE PEIXES NO AQUÁRIO AUMENTOU. QUANTOS NOVOS PEIXES CHEGARAM?

