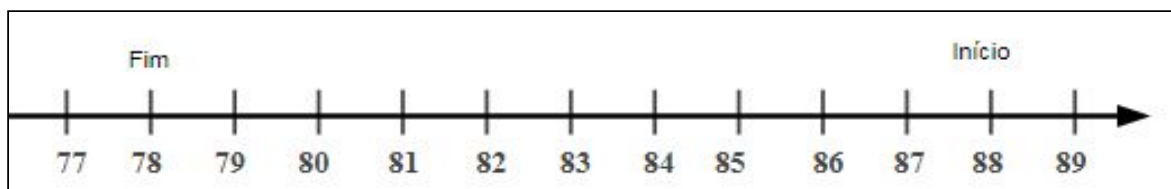


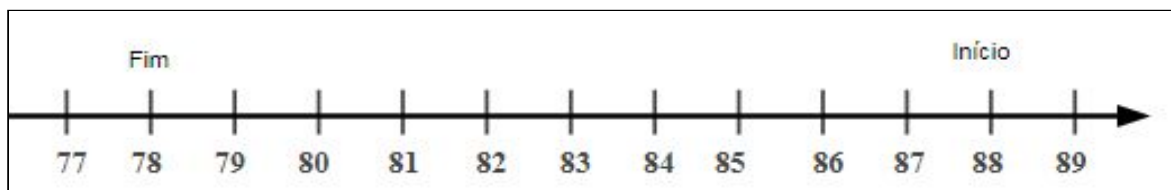
MATEUS E ÉRICK ESTAVAM JOGANDO BATE FIGURINHA. VEJA A QUANTIA DE FIGURINHAS DE MATEUS NO INÍCIO E NO FIM DO JOGO, REGISTRADAS NA RETA ABAIXO:



O QUE OCORREU DURANTE O JOGO COM AS FIGURINHAS DE MATEUS? REPRESENTA NA RETA A SUA RESPOSTA. EM SEGUIDA ESCREVA A OPERAÇÃO CORRESPONDENTE.

---

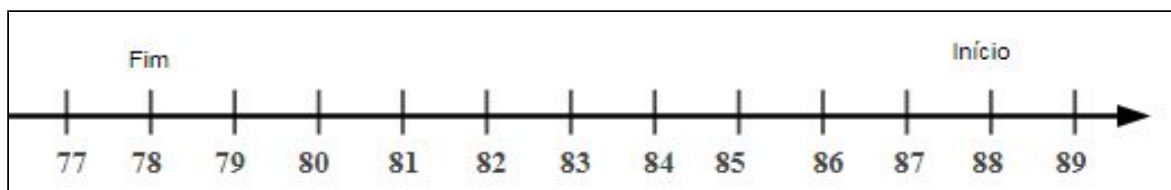
MATEUS E ÉRICK ESTAVAM JOGANDO BATE FIGURINHA. VEJA A QUANTIA DE FIGURINHAS DE MATEUS NO INÍCIO E NO FIM DO JOGO, REGISTRADAS NA RETA ABAIXO:



O QUE OCORREU DURANTE O JOGO COM AS FIGURINHAS DE MATEUS? REPRESENTA NA RETA A SUA RESPOSTA. EM SEGUIDA ESCREVA A OPERAÇÃO CORRESPONDENTE.

---

MATEUS E ÉRICK ESTAVAM JOGANDO BATE FIGURINHA. VEJA A QUANTIA DE FIGURINHAS DE MATEUS NO INÍCIO E NO FIM DO JOGO, REGISTRADAS NA RETA ABAIXO:



O QUE OCORREU DURANTE O JOGO COM AS FIGURINHAS DE MATEUS? REPRESENTA NA RETA A SUA RESPOSTA. EM SEGUIDA ESCREVA A OPERAÇÃO CORRESPONDENTE.