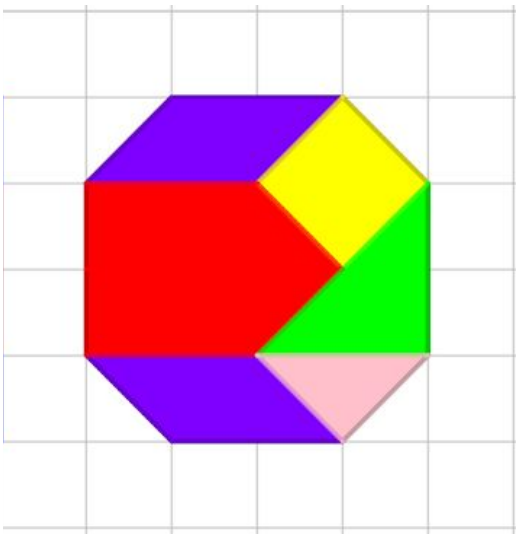


Resolução da atividade Complementar - MAT4_GEO09**1)Qual dos mosaicos abaixo não é simétrico?****Resolução:**

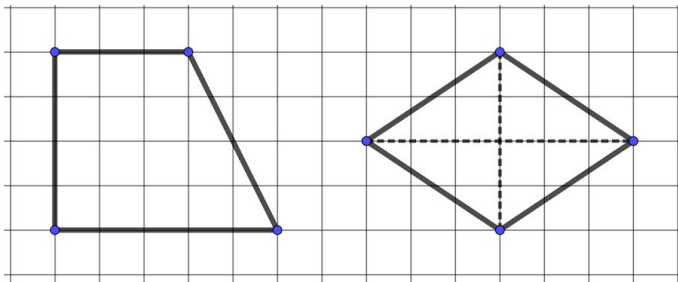
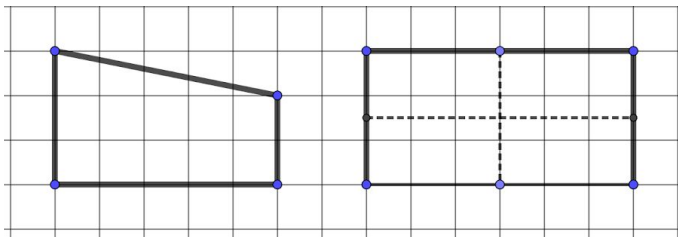
Esse é o mosaico assimétrico, ou seja, aquele que não apresenta eixos de simetria.

**2)Desenhe na malha quadriculada:**

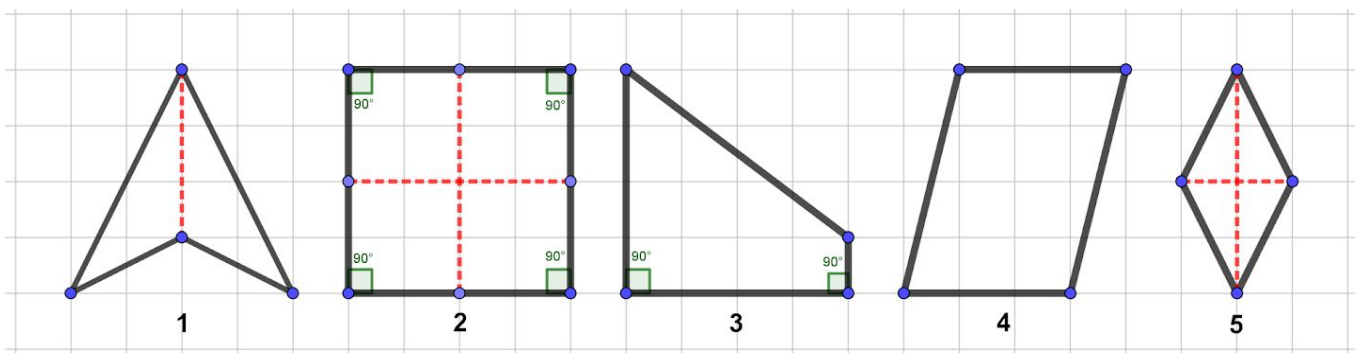
- Um quadrilátero que apresente 2 ângulos retos e nenhum eixo de simetria
- Um quadrilátero que apresente 2 pares de lados paralelos e apenas 2 eixos de simetria.

Resolução:

Seguem duas soluções para a atividade complementar 2



3) Observe os quadriláteros abaixo e complete a tabela:



Resolução:

Quadrilátero	1	2	3	4	5
Eixos de simetria	1	4	0	0	2
Pares de lados paralelos	0	2	1	2	2

Ângulos retos	0	4	2	0	0
----------------------	----------	----------	----------	----------	----------