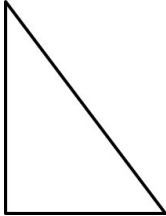




**Resolução do Raio X - MAT1\_09GEO05**

Vocês sabiam que existem outras figuras geométricas além do quadrado, do triângulo e do círculo? Nessas figuras também podemos encontrar lados e vértices?

Coloque em prática o que você aprendeu e conte os lados e os vértices dessas figuras e registre na tabela.

**Solução:**

<b>FIGURA</b>	<b>LADO</b>	<b>VÉRTICE</b>
	<b>3</b>	<b>3</b>
	<b>4</b>	<b>4</b>
	<b>4</b>	<b>4</b>