


ATIVIDADE 1


Roberta foi passar as férias na fazenda de seus avós. Eles criam vários animais e uma de suas fontes de renda é a venda de leite de vaca.

No sábado, meu avô e meus dois tios haviam tirado 550 litros de leite. Sabendo que tio Paulo tirou 126 litros e tio Marcos tirou o dobro da quantidade de litros tirados por Tio Paulo. Quantos litros de leite tirou meu avô?




ATIVIDADE 2


A avó de Roberta fez 3 receitas de doce de leite. Foram distribuídos 48 doces para cada mercearia da cidade.



Assadeira 1:
64 doces



Assadeira 2:
64 doces



Assadeira 3:
64 doces

Quantas mercearias receberam doces de leite da vovó para revenda?

ATIVIDADE 3

O avô de Roberta também cria galinhas em sua fazenda. Roberta encontrou essas caixas de ovos com as anotações feitas por ele embaixo de cada uma. O que será que significam? Você consegue elaborar um problema para essas anotações do vovô de Roberta?

