


### Atividade Raio X




Carlos comeu metade de uma caixa de bombons. Da parte que sobrou, Ana comeu a terça parte. Os dez bombons que sobraram foram distribuídos igualmente entre seu pais. Quantos bombons havia na caixa?

Nosso desafio é descobrir o total de bombons que havia na caixa e assim o total que cada um comeu

Descreva também como você chegou à sua resposta.

---

### Atividade Raio X




Carlos comeu metade de uma caixa de bombons. Da parte que sobrou, Ana comeu a terça parte. Os dez bombons que sobraram foram distribuídos igualmente entre seu pais. Quantos bombons havia na caixa?

Nosso desafio é descobrir o total de bombons que havia na caixa e assim o total que cada um comeu

Descreva também como você chegou à sua resposta.

---

### Atividade Raio X



Carlos comeu metade de uma caixa de bombons. Da parte que sobrou, Ana comeu a terça parte. Os dez bombons que sobraram foram distribuídos igualmente entre seu pais. Quantos bombons havia na caixa?

Nosso desafio é descobrir o total de bombons que havia na caixa e assim o total que cada um comeu

Descreva também como você chegou à sua resposta.

---