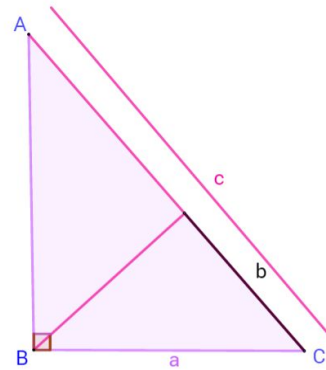
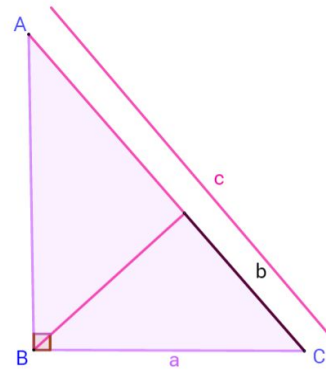


1) Considere o triângulo retângulo ABC reto em B. Qual a relação existente entre seu cateto a , a projeção deste cateto b e a hipotenusa c ?



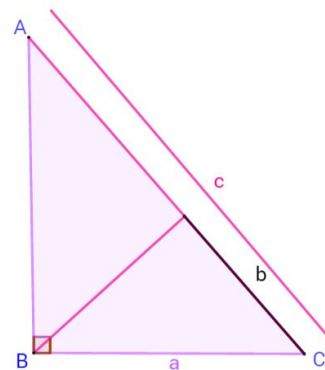
2) Dado um triângulo retângulo MNO, determine a medida do cateto desse triângulo sabendo que a projeção desse cateto mede 4 cm e a hipotenusa mede 9 cm.

1) Considere o triângulo retângulo ABC reto em B. Qual a relação existente entre seu cateto a , a projeção deste cateto b e a hipotenusa c ?



2) Dado um triângulo retângulo MNO, determine a medida do cateto desse triângulo sabendo que a projeção desse cateto mede 4 cm e a hipotenusa mede 9 cm.

1) Considere o triângulo retângulo ABC reto em B. Qual a relação existente entre seu cateto a , a projeção deste cateto b e a hipotenusa c ?



2) Dado um triângulo retângulo MNO, determine a medida do cateto desse triângulo sabendo que a projeção desse cateto mede 4 cm e a hipotenusa mede 9 cm.