
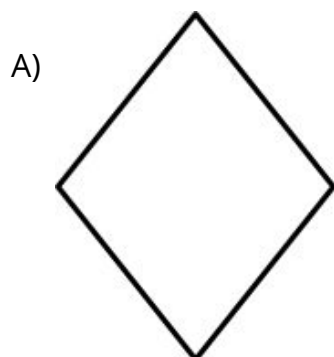
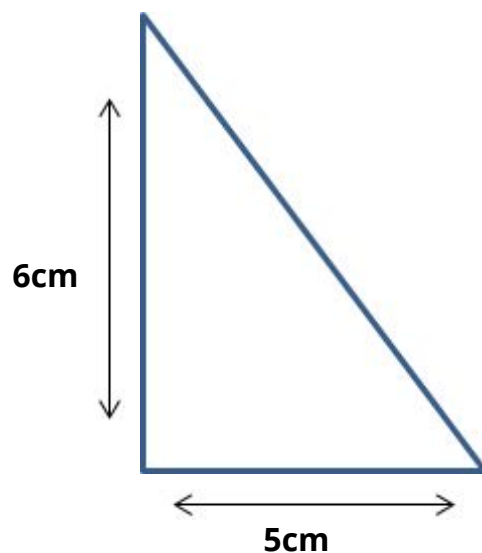


1-Calcule o perímetro e área das figuras a seguir e descreva como fez para achar essas medidas.



2-Um retângulo foi decomposto e formou dois triângulos iguais. Calcule o perímetro e a área do retângulo que deu origem a um dos triângulo.



**3-Desafio** - Após uma chuva muito forte, um campo de futebol teve 40% do seu gramado e 20% de sua cerca de proteção danificados. Sabendo que o campo de futebol tem como medidas 90m de comprimento por 70m de largura, quanto do gramado e da cerca deverão ser substituídos?