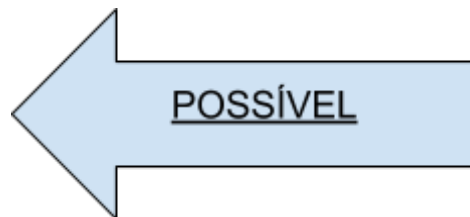
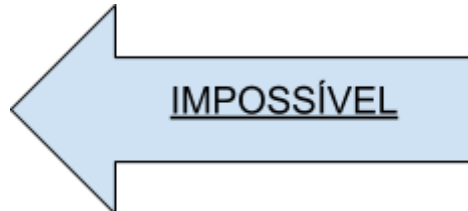
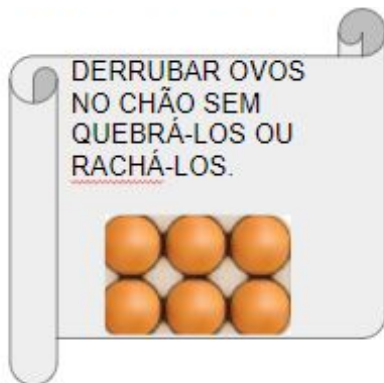


## Resolução do Raio X - MAT1\_17PES01

ESCREVA NA FRENTE DE CADA SITUAÇÃO SE ELA É POSSÍVEL OU IMPOSSÍVEL.



*Nesta atividade a primeira situação é impossível de acontecer, pois na queda, pela fragilidade da casca dos ovos, elas irão rachar ou quebrar, discuta com as crianças o porquê esta situação é impossível.*

*A segunda situação é possível, pois ao tentar acertar um arremesso a uma cesta de basquete é possível que o jogador acerte, apesar de não ser uma certeza.*