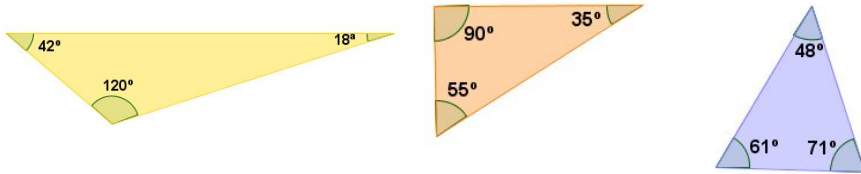


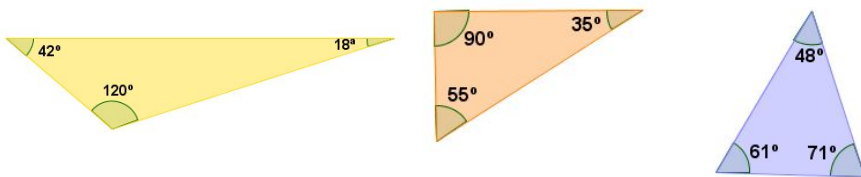
1 - Na aula de hoje, vamos utilizar uma propriedade muito importante dos triângulos. Para relembrar esta propriedade, calcule a soma das medidas dos ângulos internos dos triângulos abaixo.



2 - Escreva em seu caderno a propriedade dos triângulos que você lembrou na atividade anterior.

---

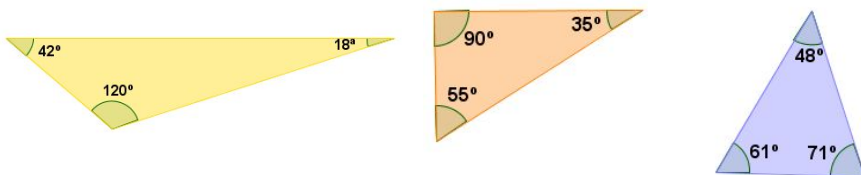
1 - Na aula de hoje, vamos utilizar uma propriedade muito importante dos triângulos. Para relembrar esta propriedade, calcule a soma das medidas dos ângulos internos dos triângulos abaixo.



2 - Escreva em seu caderno a propriedade dos triângulos que você lembrou na atividade anterior.

---

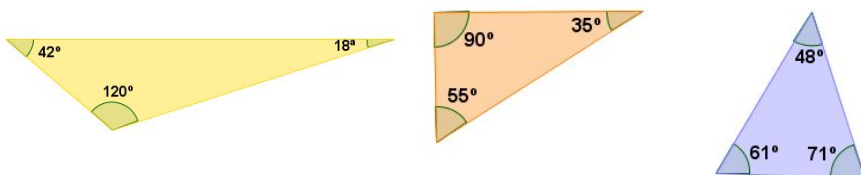
1 - Na aula de hoje, vamos utilizar uma propriedade muito importante dos triângulos. Para relembrar esta propriedade, calcule a soma das medidas dos ângulos internos dos triângulos abaixo.



2 - Escreva em seu caderno a propriedade dos triângulos que você lembrou na atividade anterior.

---

1 - Na aula de hoje, vamos utilizar uma propriedade muito importante dos triângulos. Para relembrar esta propriedade, calcule a soma das medidas dos ângulos internos dos triângulos abaixo.



2 - Escreva em seu caderno a propriedade dos triângulos que você lembrou na atividade anterior.