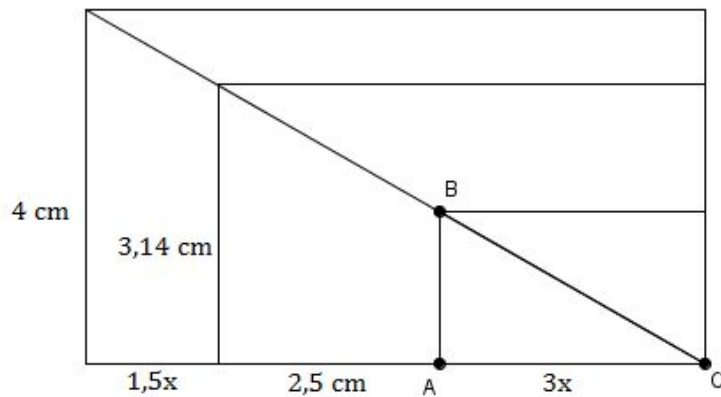
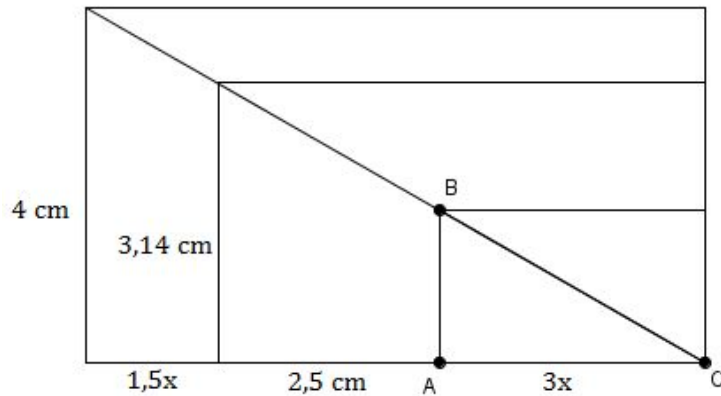


Observe os retângulos abaixo e os triângulos formados por suas diagonais:



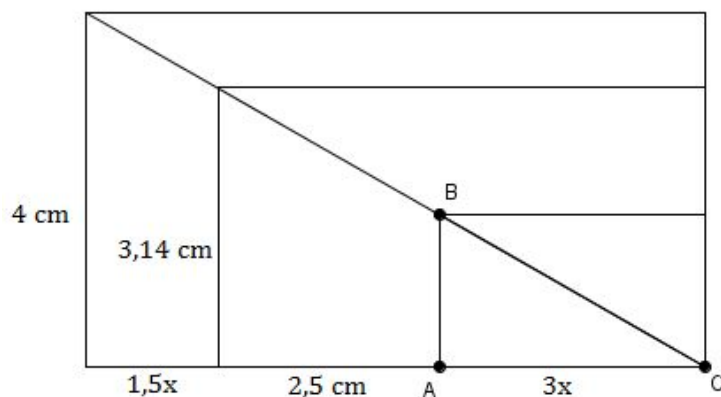
- Os triângulos da figura são semelhantes? Por quê?
 - Pinte da mesma cor o conjunto de ângulos congruentes dos triângulos.
 - Qual é a área do triângulo ABC? (Considere duas casas decimais)
-

Observe os retângulos abaixo e os triângulos formados por suas diagonais:



- Os triângulos da figura são semelhantes? Por quê?
 - Pinte da mesma cor o conjunto de ângulos congruentes dos triângulos.
 - Qual é a área do triângulo ABC? (Considere duas casas decimais)
-

Observe os retângulos abaixo e os triângulos formados por suas diagonais:



- Os triângulos da figura são semelhantes? Por quê?
- Pinte da mesma cor o conjunto de ângulos congruentes dos triângulos.
- Qual é a área do triângulo ABC? (Considere duas casas decimais)