
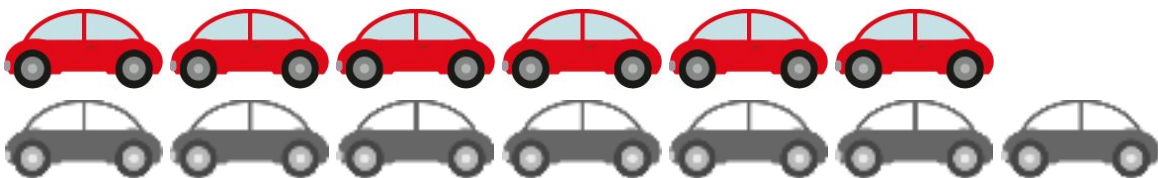




Resolução da atividade principal - MAT1_01NUM05

Essa é a coleção de Sabrina:



Complete as coleções abaixo para que fiquem com a mesma quantidade da coleção de Sabrina:



Nessa primeira parte da atividade os alunos deverão completar a coleção de bolinhas e carrinhos, correspondendo à coleção de tampinhas de Sabrina que é treze, ou seja, para a coleção de bolinhas será acrescentado mais cinco bolinhas e para a coleção de carrinhos, mais sete carrinhos.

Responda:

O que você teve que acrescentar mais, carrinhos ou bolinhas?

CARRINHOS OU



Quantas bolinhas você acrescentou?

5 OU CINCO OU IIIII

Quantos carrinhos você acrescentou?

7 OU SETE OU IIIIIII

Na segunda parte dessa atividade as crianças deverão responder aos questionamentos. Elas poderão responder conforme o exemplo exposto nas perguntas, com escrita, desenho, número ou risquinhos para definir a quantidade, ou ainda poderá responder oralmente. Neste caso é interessante que você registre as respostas das crianças para avaliação posterior.