

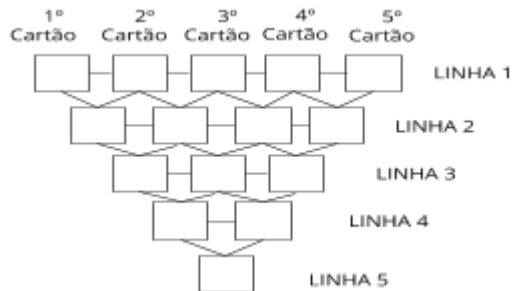
Atividade de Raio X - MAT5_26RDP05

João recortou alguns cartões e os organizou da seguinte forma:

Ele mostrou seus cartões à Maria e disse

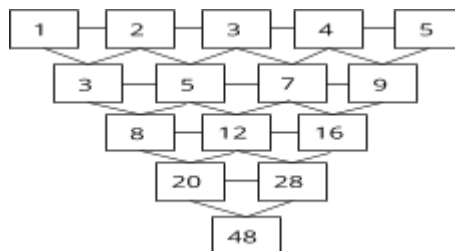


A partir da segunda linha, os números que devem ocupar cada cartão correspondem à soma dos dois cartões da linha acima; e na linha um devem aparecer apenas os algarismos 1, 2, 3, 4 e 5 sem repetição.

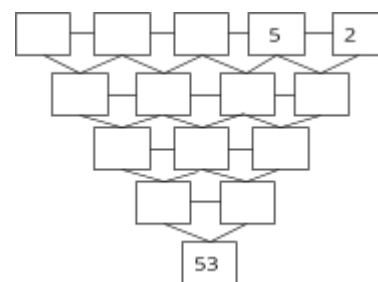
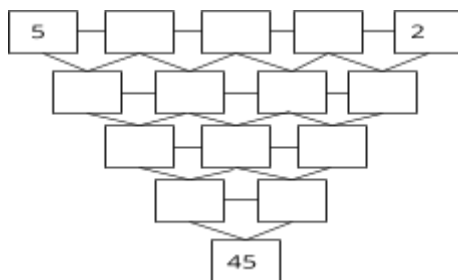
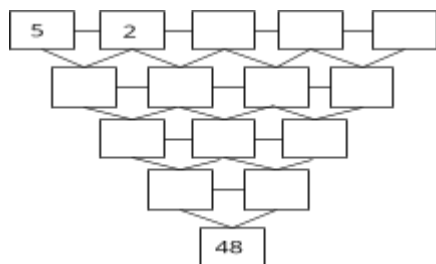
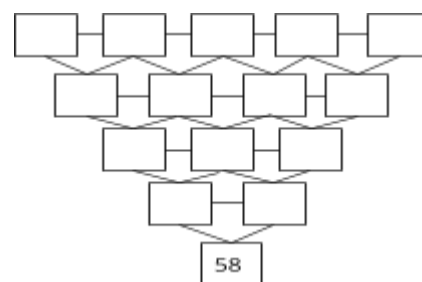
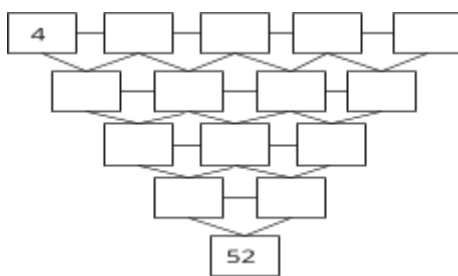
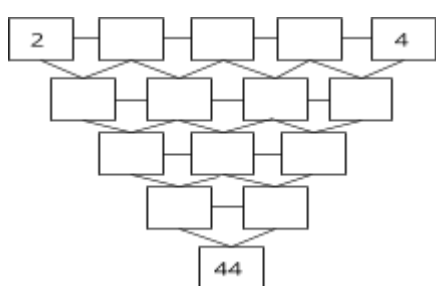


algumas regras de como preenchê-los:

João fez uma demonstração para Maria.



Assim como Maria preencheu alguns cartões e descobriu algumas relações, preencha os cartões abaixo e descubra a relação que Maria descobriu.



Que relação você conseguiu estabelecer?