











VOCÊ PODE AJUDAR A FAZER AS TROCAS DE CAUÊ E PREENCHER AS LACUNAS COM ALGARISMOS PARA REPRESENTAR AS QUANTIDADES? A PRIMEIRA JÁ ESTÁ FEITA.

 (CEM REAIS)	CAUÊ TROCOU UMA CÉDULA DE 100 REAIS POR <b>10 (DEZ)</b> CÉDULAS DE  (DEZ REAIS). ASSIM, VIU QUE COM <b>10</b> DEZENAS ELE FORMA <b>1(UMA)</b> CENTENA.
 (DEZ REAIS)	TROCOU UMA CÉDULA DE 10 REAIS POR _____ MOEDAS DE  (UM REAL). ELE DESCOBRIU QUE EM UMA DEZENA ELE TEM _____ UNIDADES.
 (DUZENTOS E DEZ REAIS)	EM 210 REAIS CAUÊ DESCOBRIU QUE ELE TEM _____ CENTENAS MAIS _____ DEZENA. PORTANTO _____ UNIDADES.

VOCÊ PODE AJUDAR A FAZER AS TROCAS DE CAUÊ E PREENCHER AS LACUNAS COM ALGARISMOS PARA REPRESENTAR AS QUANTIDADES? A PRIMEIRA JÁ ESTÁ FEITA.

 (CEM REAIS)	CAUÊ TROCOU UMA CÉDULA DE 100 REAIS POR <b>10 (DEZ)</b> CÉDULAS DE  (DEZ REAIS). ASSIM, VIU QUE COM <b>10</b> DEZENAS ELE FORMA <b>1(UMA)</b> CENTENA.
 (DEZ REAIS)	TROCOU UMA CÉDULA DE 10 REAIS POR _____ MOEDAS DE  (UM REAL). ELE DESCOBRIU QUE EM UMA DEZENA ELE TEM _____ UNIDADES.
 (DUZENTOS E DEZ REAIS)	EM 210 REAIS CAUÊ DESCOBRIU QUE ELE TEM _____ CENTENAS MAIS _____ DEZENA. PORTANTO _____ UNIDADES.