


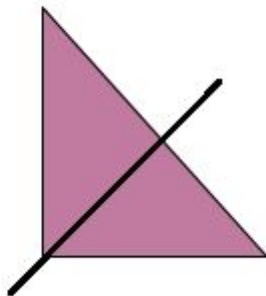
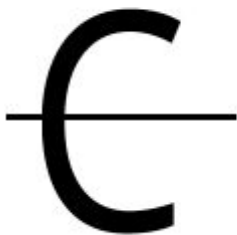
Resolução das atividades complementares - MAT2_15GEO10

Possível resolução:

1) OBSERVE AS FIGURAS ABAIXO E CIRCULE A FIGURA QUE POSSUI SOMENTE UM EIXO DE SIMETRIA.



2) TRACE O EIXO OU OS EIXOS DE SIMETRIA NAS IMAGENS ABAIXO:



3)DESAFIO:

QUANTOS EIXOS DE SIMETRIA POSSUI O RETÂNGULO ABAIXO?

