


1)

MARIA PRECISA ENCHER 10 BALÕES.


VEJA QUANTOS ELA JÁ ENCHEU. O RESTANTE ESTAVA FURADO.



QUANTOS BALÕES FALTAM PARA COMPLETAR 10?

MARIA PRECISA ENCHER 10 BALÕES.

VEJA QUANTOS ELA JÁ ENCHEU. O RESTANTE ESTAVA FURADO.



QUANTOS BALÕES FALTAM PARA COMPLETAR 10?

2)

PEDRO E LUCAS FORAM LANCHAR.
CADA UM USOU 10 REAIS PARA PAGAR O LANCHE.

VEJA QUANTO CUSTOU O LANCHE DELES.

7 REAIS



PEDRO

6 REAIS



LUCAS

QUANTO CADA UM RECEBEU DE TROCO?

PEDRO E LUCAS FORAM LANCHAR.
CADA UM USOU 10 REAIS PARA PAGAR O LANCHE.


VEJA QUANTO CUSTOU O LANCHE DELES.

7 REAIS



PEDRO

6 REAIS



LUCAS

QUANTO CADA UM RECEBEU DE TROCO?

3)

MARIA, JOÃO, ARTUR E CARINA ESTÃO COMENDO BOLINHOS COM DIFERENTES COBERTURA. VEJA:



TEM BOLINHOS SUFICIENTES PARA CADA CRIANÇA COMER PELO MENOS UM BOLINHO?

MARIA, JOÃO, ARTUR E CARINA ESTÃO COMENDO BOLINHOS COM DIFERENTES COBERTURA. VEJA:



TEM BOLINHOS SUFICIENTES PARA CADA CRIANÇA COMER PELO MENOS UM BOLINHO?