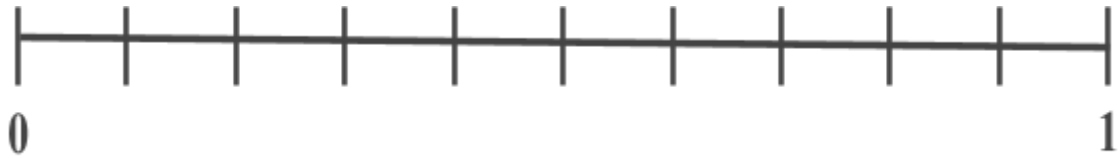
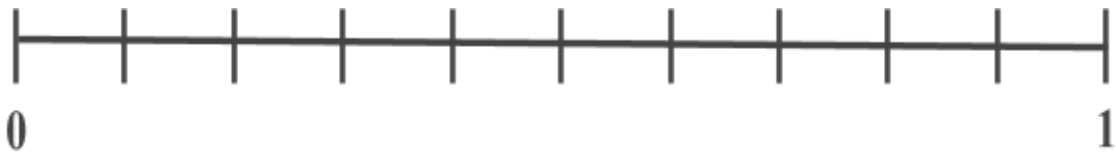


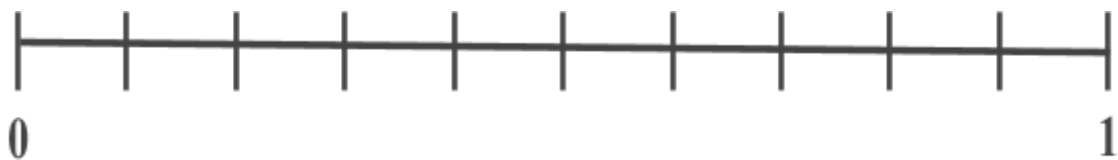
- Observando a reta numerada, quais frações podemos escrever de forma que fiquem próximas ao 1?
- E próximas ao 0?



- Vamos representar as frações menores que 1 utilizando o próprio corpo?



-
- Observando a reta numerada, quais frações podemos escrever de forma que fiquem próximas ao 1?
 - E próximas ao 0?



- Vamos representar as frações menores que 1 utilizando o próprio corpo?

