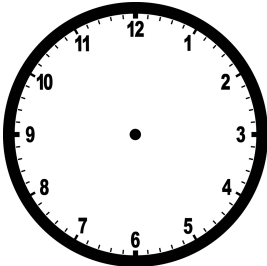


Júnior é atleta. Ele gasta 5 minutos correndo para dar uma volta no campo de futebol.

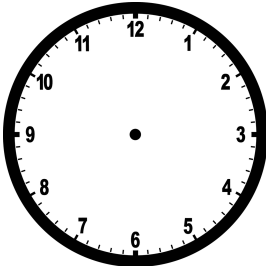
Quando Júnior começou a correr em volta do campo de futebol o relógio estava assim:



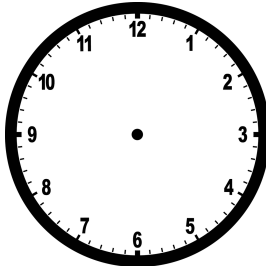
1. Júnior deu 4 voltas correndo ao redor do campo de futebol. marque nos relógios os minutos em que Júnior completou cada volta:



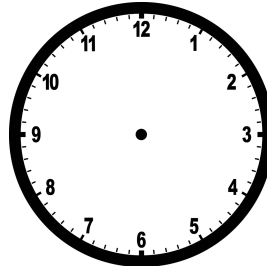
1ª VOLTA



2ª VOLTA



3ª VOLTA



4ª VOLTA

2. Marque no relógio digital o horário em que Júnior terminou a corrida



3. Por quanto tempo Júnior correu ao redor do campo de futebol?

---