


## Resolução do raio x - MAT3\_17GEO02

### OS SÓLIDOS E SUAS PLANIFICAÇÕES

**1-MARINA ESTÁ BRINCANDO DE CARIMBAR COM A FACE DOS SÓLIDOS. RELACIONE CADA SÓLIDO COM O CARIMBO QUE ELA OBTIVE:**

A atividade 1 requer que o aluno relacione as figuras geométricas com o carimbo de uma de suas faces, o relevante é que o aluno perceba que de um sólido podemos extrair secções planas.




(A)



(B)



(C)



(D)




(C)



(D)




(B)



(A)

**2- AGORA RELACIONE OS SÓLIDOS COM SUAS PLANIFICAÇÕES:**


Na atividade 2 os alunos devem relacionar as figuras com suas planificações. Observe que o aluno terá que relacionar a planificação sem desmontar a figura; então as crianças deverão pensar no número de faces e a posição de cada uma delas para encontrar a resposta correta.



(A)



(B)



(C)

