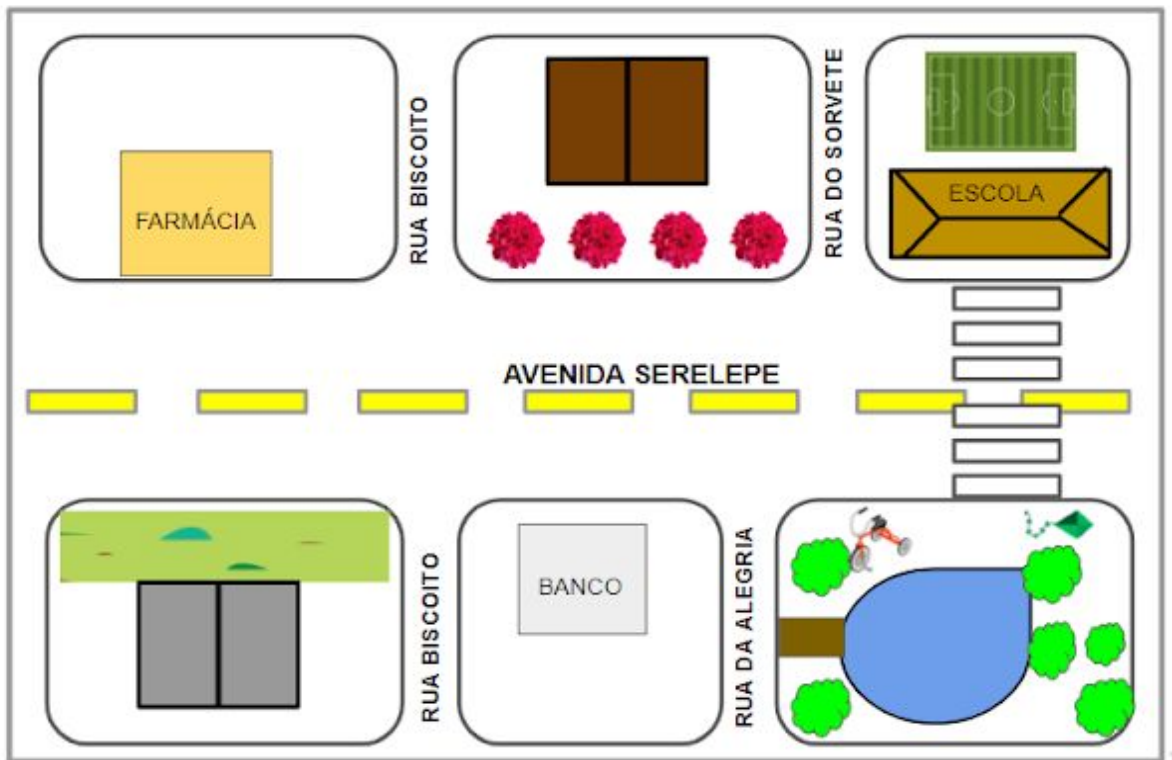


## Atividade Raio X - MAT2\_14GEO04




VEJA AS RUAS ABAIXO!

IMAGINE QUE VOCÊ MORA NA **AVENIDA SERELEPE**, AO LADO DO BANCO!



CONSEGUIU SE LOCALIZAR? AGORA VEJA AS ORIENTAÇÕES A SEGUIR:

USE A LEGENDA ABAIXO E PINTE OS TRAJETOS NAS RUAS:

-  DA CASA EM QUE MORA ATÉ A ESCOLA;
-  DA ESCOLA ATÉ A FARMÁCIA;
-  DA FARMÁCIA ATÉ O LAGO, NA RUA DA ALEGRIA.