



Após a montagem de um quebra-cabeça de 5 peças, obteve-se a figura retangular abaixo.



É correto afirmar que, nesta figura:

- A) há 1 par de triângulos semelhantes.
- B) há 3 pares de triângulos semelhantes.
- C) há 4 pares de triângulos semelhantes.
- D) há 6 pares de triângulos semelhantes.
- E) não há triângulos semelhantes.


Após a montagem de um quebra-cabeça de 5 peças, obteve-se a figura retangular abaixo.



É correto afirmar que, nesta figura:

- A) há 1 par de triângulos semelhantes.
- B) há 3 pares de triângulos semelhantes.
- C) há 4 pares de triângulos semelhantes.
- D) há 6 pares de triângulos semelhantes.
- E) não há triângulos semelhantes.


Após a montagem de um quebra-cabeça de 5 peças, obteve-se a figura retangular abaixo.



É correto afirmar que, nesta figura:

- A) há 1 par de triângulos semelhantes.
- B) há 3 pares de triângulos semelhantes.
- C) há 4 pares de triângulos semelhantes.
- D) há 6 pares de triângulos semelhantes.
- E) não há triângulos semelhantes.

Após a montagem de um quebra-cabeça de 5 peças, obteve-se a figura retangular abaixo.



É correto afirmar que, nesta figura:

- A) há 1 par de triângulos semelhantes.
- B) há 3 pares de triângulos semelhantes.
- C) há 4 pares de triângulos semelhantes.
- D) há 6 pares de triângulos semelhantes.
- E) não há triângulos semelhantes.