

RESOLUÇÃO DA ATIVIDADE PRINCIPAL - MAT02_08NUM09

**Resolução 1
Cálculo convencional**

ANA TEM 45 FIGURINHAS E ROBERTA TEM 38 FIGURINHAS.

1) QUANTAS FIGURINHAS ANA TEM A MAIS QUE ROBERTA?

$$\begin{array}{r}
 315 \\
 \cancel{45} \\
 - \cancel{38} \\
 \hline
 07
 \end{array}$$

ANA TEM 7 FIGURINHAS A MAIS QUE ROBERTA.

2) ANA PERDEU 8 FIGURINHAS E ROBERTA COMPROU 2 FIGURINHAS. QUEM FICOU COM MAIS FIGURINHAS? COM QUANTAS A MAIS?

<p>ANA</p> $ \begin{array}{r} 315 \\ \cancel{45} \\ - \quad 8 \\ \hline 37 \end{array} $	-	<p>ROBERTA</p> $ \begin{array}{r} 1 \\ 38 \\ + \quad 2 \\ \hline 40 \end{array} $	-	$ \begin{array}{r} 310 \\ \cancel{40} \\ - \cancel{37} \\ \hline 03 \end{array} $
---	---	--	---	---

ROBERTA FICOU COM MAIS FIGURINHAS. ELA FICOU COM 3 A MAIS.

3) NUMA DISPUTA ANA GANHOU 18 FIGURINHAS E ROBERTA GANHOU 14 FIGURINHAS. E AGORA QUEM ESTÁ COM MENOS FIGURINHAS? COM QUANTAS A MENOS?

$$\begin{array}{r}
 \text{ANA} \\
 1 \\
 37 \\
 + 18 \\
 \hline
 55
 \end{array}$$

$$\begin{array}{r}
 \text{ROBERTA} \\
 40 \\
 + 14 \\
 \hline
 54
 \end{array}$$

$$\begin{array}{r}
 55 \\
 - 54 \\
 \hline
 01
 \end{array}$$

AGORA ROBERTA ESTÁ COM MENOS FIGURINHAS. ELA ESTÁ COM 1 FIGURINHA A MENOS.

4) NUMA NOVA DISPUTA ANA FICOU COM 68 FIGURINHAS E ROBERTA COM 60 FIGURINHAS. QUANTAS FIGURINHAS ROBERTA GANHOU A MENOS QUE ANA?

$$\begin{array}{r}
 \text{ANA} \\
 68 \\
 - 55 \\
 \hline
 13
 \end{array}$$

$$\begin{array}{r}
 \text{ROBERTA} \\
 50 \\
 \cancel{60} \\
 - 54 \\
 \hline
 06
 \end{array}$$

$$\begin{array}{r}
 013 \\
 \cancel{13} \\
 - 6 \\
 \hline
 07
 \end{array}$$

ROBERTA GANHOU 7 FIGURINHAS A MENOS QUE ANA.

5) QUANTAS FIGURINHAS ANA E ROBERTA FICARAM A MAIS QUE NO COMEÇO?

$$\begin{array}{r}
 \text{ANA} \\
 68 \\
 - 45 \\
 \hline
 23
 \end{array}$$

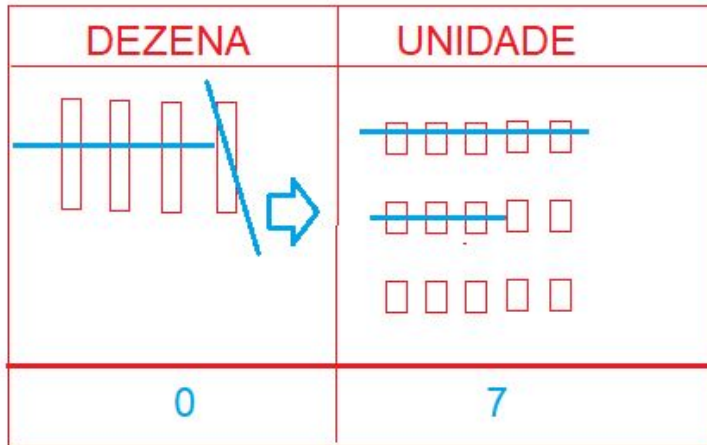
$$\begin{array}{r}
 \text{ROBERTA} \\
 50 \\
 \cancel{60} \\
 - 38 \\
 \hline
 22
 \end{array}$$

ANA FICOU COM 23 FIGURINHAS A MAIS QUE NO COMEÇO E ROBERTA COM 22 FIGURINHAS A MAIS QUE NO COMEÇO.

**Resolução 2
No QVL**

ANA TEM 45 FIGURINHAS E ROBERTA TEM 38 FIGURINHAS.

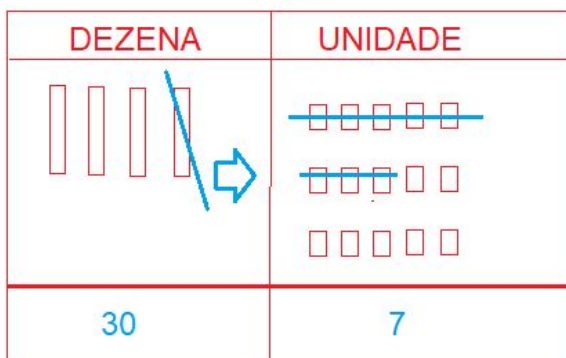
1) QUANTAS FIGURINHAS ANA TEM A MAIS QUE ROBERTA?



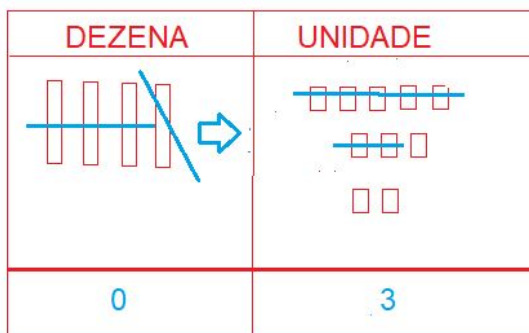
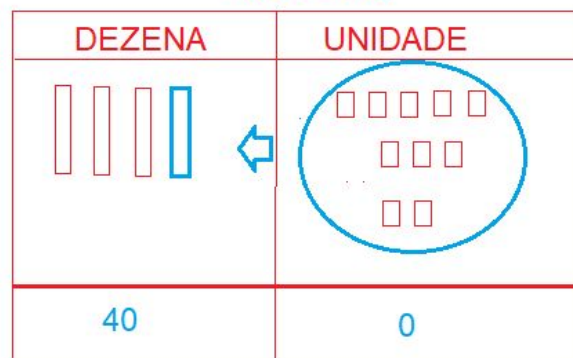
ANA TEM 7 FIGURINHAS A MAIS QUE ROBERTA.

2) ANA PERDEU 8 FIGURINHAS E ROBERTA COMPROU 2 FIGURINHAS. QUEM FICOU COM MAIS FIGURINHAS? COM QUANTAS A MAIS?

ANA

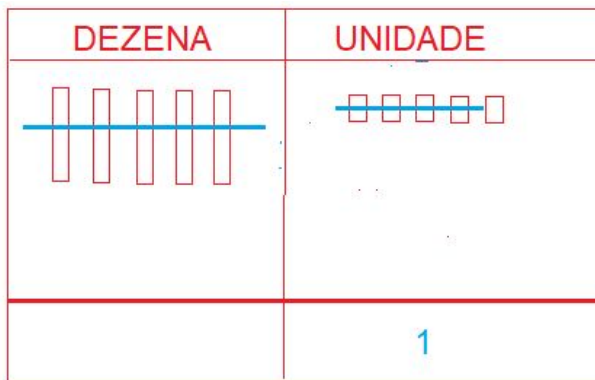
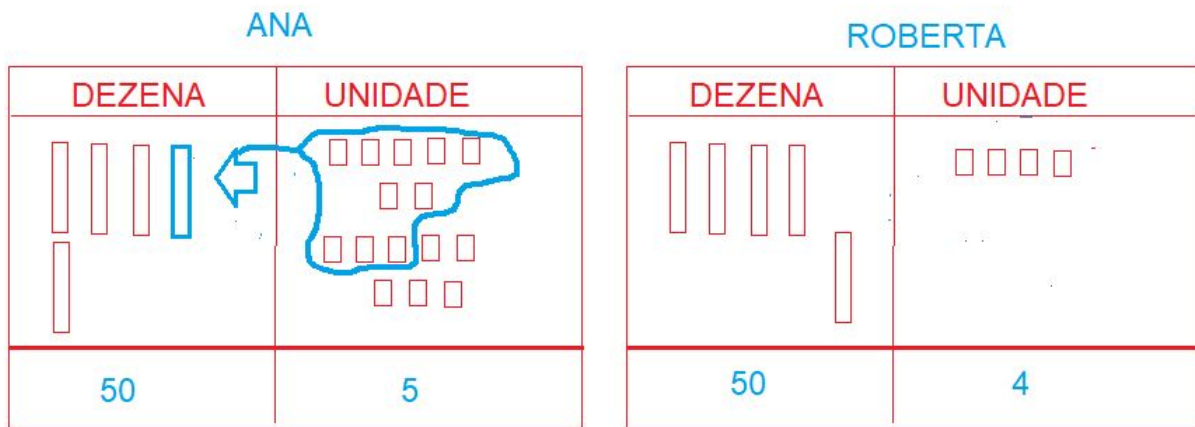


ROBERTA



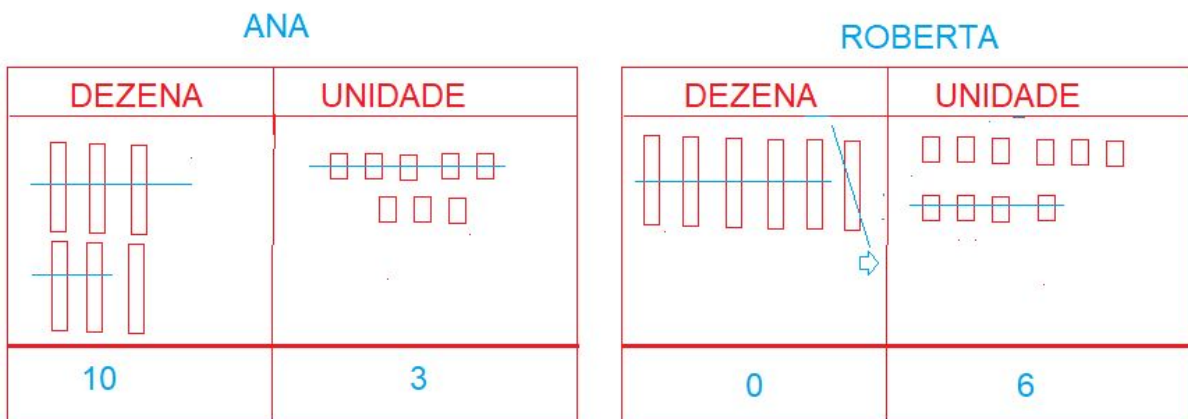
ROBERTA FICOU COM MAIS FIGURINHAS. ELA FICOU COM 3 A MAIS.

3) NUMA DISPUTA ANA GANHOU 18 FIGURINHAS E ROBERTA GANHOU 14 FIGURINHAS. E AGORA QUEM ESTÁ COM MENOS FIGURINHAS? COM QUANTAS A MENOS?



AGORA ROBERTA ESTÁ COM MENOS FIGURINHAS. ELA ESTÁ COM 1 FIGURINHA A MENOS.

4) NUMA NOVA DISPUTA ANA FICOU COM 68 FIGURINHAS E ROBERTA COM 60 FIGURINHAS. QUANTAS FIGURINHAS ROBERTA GANHOU A MENOS QUE ANA?



DEZENA	UNIDADE
	7

ROBERTA GANHOU 7 FIGURINHAS A MENOS QUE ANA.

5) QUANTAS FIGURINHAS ANA E ROBERTA FICARAM A MAIS QUE NO COMEÇO?

ANA		ROBERTA	
DEZENA	UNIDADE	DEZENA	UNIDADE
20	3	20	2

ANA FICOU COM 23 FIGURINHAS A MAIS QUE NO COMEÇO E ROBERTA COM 22 FIGURINHAS A MAIS QUE NO COMEÇO.