


Resolução da atividade de raio-x - MAT3_18GRM04


O objetivo da atividade resolver a situação- problema utilizando régua para medir figuras em centímetros.

JOSÉ PRECISA ARRUMAR SUA COLEÇÃO DE BRINQUEDOS EM CAIXAS. AJUDE JOSÉ A DESCOBRIR O TAMANHO DE CADA CAIXA QUE ELE PRECISA PARA CADA BRINQUEDO.


(A) RESPOSTA = 12 CM



(B) RESPOSTA = 10 CM



(C) RESPOSTA = 15 CM



(D) RESPOSTA = 13 CM



I - A MAIOR CAIXA QUE JOSÉ PRECISA TEM MAIS OU MENOS QUE 20 CM?

RESPOSTA = MENOS DO QUE 20 CM, POIS A MAIOR CAIXA QUE JOSÉ PRECISA, ABRIGARÁ UM BRINQUEDO DE 15 CM DE COMPRIMENTO