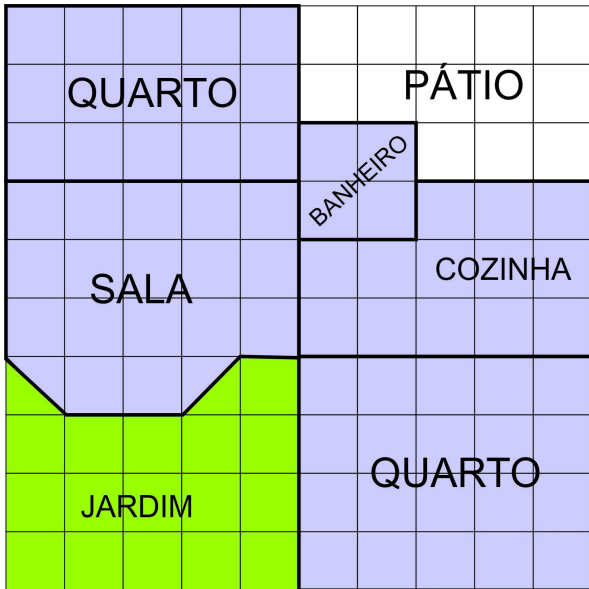


ABAIXO TEMOS A PLANTA BAIXA DE UMA CASA E QUEREMOS SUA AJUDA PARA REGISTRAR ALGUMAS MEDIDAS DO IMÓVEL! A FAMÍLIA VAI FAZER UMA REFORMA E TROCAR TODO O PISO DA CASA, MAS ENCONTRARAM A PLANTA SEM AS MEDIDAS, APENAS COM A MALHA QUADRICULADA, E PRECISAM DE SUA AJUDA! NA FIGURA, CADA QUADRADINHO DESENHADO REPRESENTA 1M²!

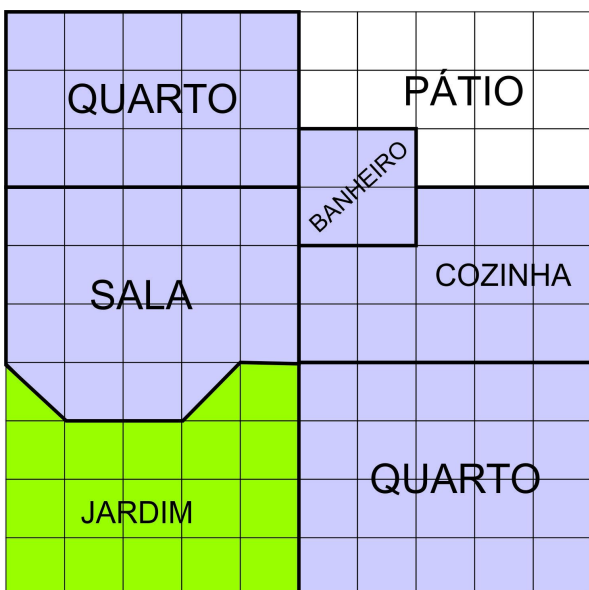


QUAL A ÁREA TOTAL DO TERRENO?

QUANTOS METROS QUADRADOS DE GRAMA FORAM NECESSÁRIOS PARA COBRIR TODO O JARDIM?

QUANTOS METROS QUADRADOS DE ÁREA CONSTRUÍDA (QUARTOS, SALA, BANHEIRO, COZINHA) A CASA POSSUI?

ABAIXO TEMOS A PLANTA BAIXA DE UMA CASA E QUEREMOS SUA AJUDA PARA REGISTRAR ALGUMAS MEDIDAS DO IMÓVEL! A FAMÍLIA VAI FAZER UMA REFORMA E TROCAR TODO O PISO DA CASA, MAS ENCONTRARAM A PLANTA SEM AS MEDIDAS, APENAS COM A MALHA QUADRICULADA, E PRECISAM DE SUA AJUDA! NA FIGURA, CADA QUADRADINHO DESENHADO REPRESENTA 1M²!



QUAL A ÁREA TOTAL DO TERRENO?

QUANTOS METROS QUADRADOS DE GRAMA FORAM NECESSÁRIOS PARA COBRIR TODO O JARDIM?

QUANTOS METROS QUADRADOS DE ÁREA CONSTRUÍDA (QUARTOS, SALA, BANHEIRO, COZINHA) A CASA POSSUI?

USANDO UMA MALHA QUADRICULADA, QUAL O NÚMERO MÁXIMO DE FIGURAS COM 16 UNIDADES DE ÁREA, DE FORMATOS DIFERENTES, VOCÊ CONSEGUE DESENHAR?

DE 1 A 2 - BOM!

3 OU 4 - MUITO BOM!

MAIS QUE 4 - UAU! EXCELENTE!

USANDO UMA MALHA QUADRICULADA, QUAL O NÚMERO MÁXIMO DE FIGURAS COM 16 UNIDADES DE ÁREA, DE FORMATOS DIFERENTES, VOCÊ CONSEGUE DESENHAR?

DE 1 A 2 - BOM!

3 OU 4 - MUITO BOM!

MAIS QUE 4 - UAU! EXCELENTE!

USANDO UMA MALHA QUADRICULADA, QUAL O NÚMERO MÁXIMO DE FIGURAS COM 16 UNIDADES DE ÁREA, DE FORMATOS DIFERENTES, VOCÊ CONSEGUE DESENHAR?

DE 1 A 2 - BOM!

3 OU 4 - MUITO BOM!

MAIS QUE 4 - UAU! EXCELENTE!

USANDO UMA MALHA QUADRICULADA, QUAL O NÚMERO MÁXIMO DE FIGURAS COM 16 UNIDADES DE ÁREA, DE FORMATOS DIFERENTES, VOCÊ CONSEGUE DESENHAR?

DE 1 A 2 - BOM!

3 OU 4 - MUITO BOM!

MAIS QUE 4 - UAU! EXCELENTE!

USANDO UMA MALHA QUADRICULADA, QUAL O NÚMERO MÁXIMO DE FIGURAS COM 16 UNIDADES DE ÁREA, DE FORMATOS DIFERENTES, VOCÊ CONSEGUE DESENHAR?

DE 1 A 2 - BOM!

3 OU 4 - MUITO BOM!

MAIS QUE 4 - UAU! EXCELENTE!

USANDO UMA MALHA QUADRICULADA, QUAL O NÚMERO MÁXIMO DE FIGURAS COM 16 UNIDADES DE ÁREA, DE FORMATOS DIFERENTES, VOCÊ CONSEGUE DESENHAR?

DE 1 A 2 - BOM!

3 OU 4 - MUITO BOM!

MAIS QUE 4 - UAU! EXCELENTE!

USANDO UMA MALHA QUADRICULADA, QUAL O NÚMERO MÁXIMO DE FIGURAS COM 16 UNIDADES DE ÁREA, DE FORMATOS DIFERENTES, VOCÊ CONSEGUE DESENHAR?


DE 1 A 2 - BOM!

3 OU 4 - MUITO BOM!

MAIS QUE 4 - UAU! EXCELENTE!


DESAFIO:

VOCÊ SABERIA EXPLICAR QUAL O JEITO MAIS RÁPIDO PARA ENCONTRARMOS A ÁREA DA FIGURA ABAIXO? SE EU NÃO QUISER CONTAR QUADRADINHO POR QUADRADINHO... O QUE POSSO FAZER?



DESAFIO:

VOCÊ SABERIA EXPLICAR QUAL O JEITO MAIS RÁPIDO PARA ENCONTRARMOS A ÁREA DA FIGURA ABAIXO? SE EU NÃO QUISER CONTAR QUADRADINHO POR QUADRADINHO... O QUE POSSO FAZER?



DESAFIO:

VOCÊ SABERIA EXPLICAR QUAL O JEITO MAIS RÁPIDO PARA ENCONTRARMOS A ÁREA DA FIGURA ABAIXO? SE EU NÃO QUISER CONTAR QUADRADINHO POR QUADRADINHO... O QUE POSSO FAZER?

