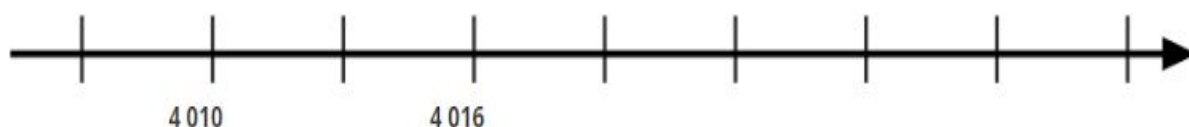


Atividades complementares _ MAT3_03NUM02

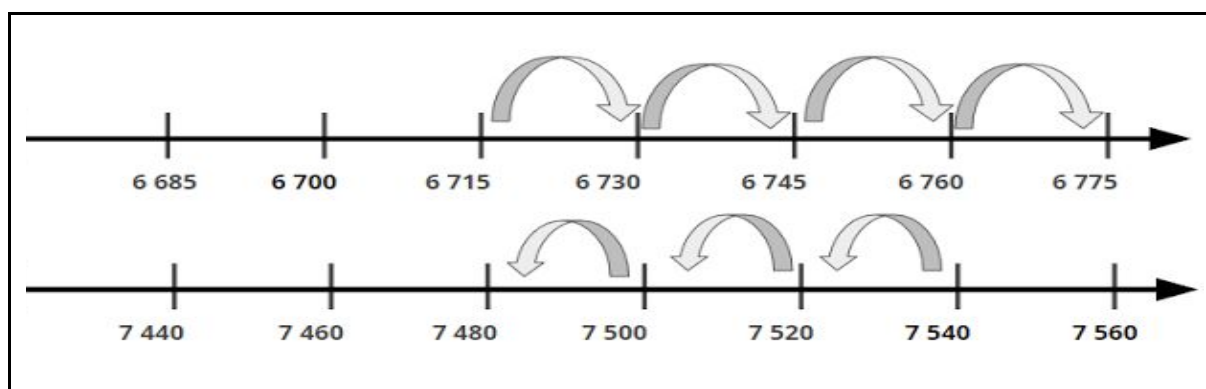
1-) MÁRCIA PRECISA BUSCAR SUA FILHA NA CASA DA AVÓ E LEVÁ-LA AO HOSPITAL. SIGA AS DICAS PARA DESCOBRIR A LOCALIZAÇÃO DE MÁRCIA, DA CASA DA AVÓ E DO HOSPITAL. LEMBRANDO QUE OS INTERVALOS ENTRE OS PONTOS DA RETA SÃO IGUAIS, REPRESENTA NA RETA E COM OPERAÇÕES OS DESLOCAMENTOS DE MÁRCIA.

- A LOCALIZAÇÃO DE MÁRCIA É UM NÚMERO ÍMPAR E ESTÁ ENTRE 4 016 E 4 025;
- A LOCALIZAÇÃO DA CASA DA AVÓ É UM NÚMERO MÚLTIPLO DE 5 E ESTÁ ENTRE 4 019 E 4 028;
- A LOCALIZAÇÃO DO HOSPITAL É A SOMA DE 4 007 MAIS 6.

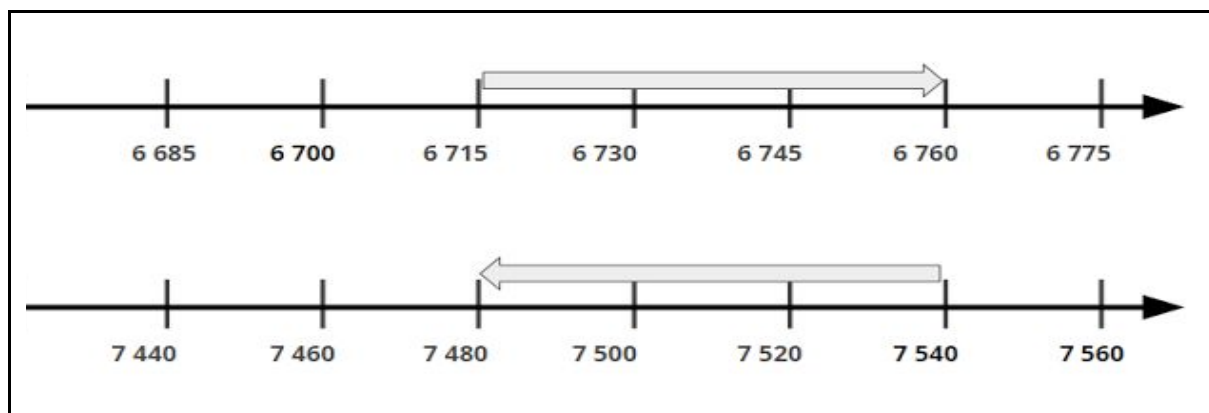


2-) QUAIS RETAS NUMERADAS REPRESENTAM $6715 + 45$ E $7540 - 60$ RESPECTIVAMENTE? SITUAÇÃO A OU SITUAÇÃO B? EXPLIQUE POR QUÊ?

SITUAÇÃO A



SITUAÇÃO B



DESAFIO

3-) REPRESENTA COM OPERAÇÕES E NA RETA NUMERADA OS DESLOCAMENTOS DAS BOLAS ATÉ O PINO. LEMBRANDO QUE OS INTERVALOS ENTRE OS PONTOS DA RETA SÃO IGUAIS.

