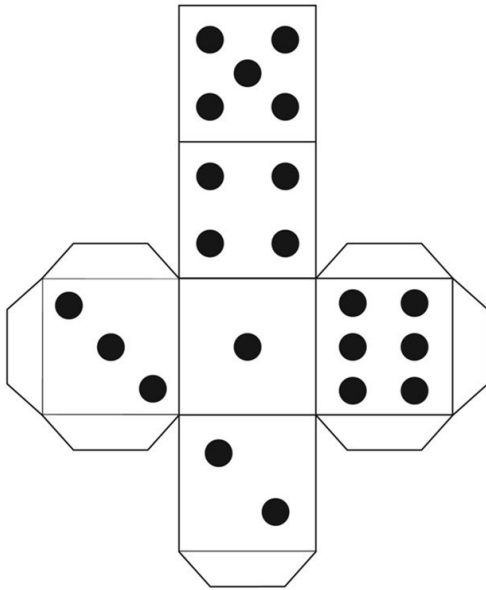


Resolução da atividade principal - MAT2_16GEO04

O DADO QUE NOSSA TURMA OBSERVOU NO INÍCIO DA AULA FOI DESMONTADO



QUANTAS PARTES TEM O DADO?

TODAS AS PARTES DO DADO SÃO IGUAIS?

QUE FIGURAS PLANAS SUAS PARTES LEMBRAM?


RESPOSTAS

O dado tem 6 partes (*espera-se que os alunos consigam relacionar as partes do dado com as faces do cubo*).

Sim, todas as partes são iguais.

As partes do dado lembram o quadrado.

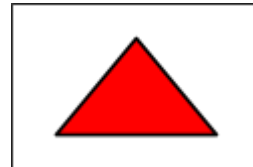
GUILHERME REPRESENTOU O RELÓGIO DE PAREDE VISTO DE FRENTE



A IMAGEM DESENHADA POR GUILHERME LEMBRA UMA FIGURA PLANA OU NÃO PLANA? QUAL?

Lembram uma figura plana, o círculo.

KARINA TAMBÉM QUIS REPRESENTAR O TELHADO DE UMA CASA VISTO DE FRENTE.



A IMAGEM REPRESENTADA POR KARINA LEMBRA QUAL FIGURA PLANA?
Um triângulo.

SE KARINA RESOLVESSE REPRESENTAR UM RETÂNGULO. QUE PARTE DA CASA ELA DEVERIA DESENHAR?

Ela deveria desenhar a porta. (Professor, nesta questão você pode incentivar aos seus alunos a pensarem em outros objetos que lembram o retângulo.).