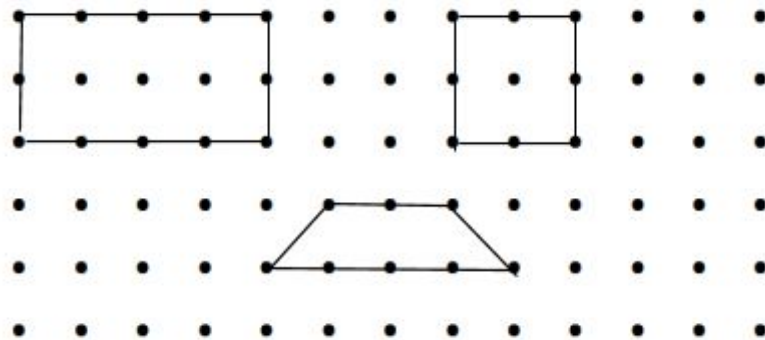


Resolução da atividade complementar - MAT4_18GEO 05

Una os pontos no geoplano abaixo e forme os polígonos conforme as orientações abaixo:


- ❖ Tenho 4 ângulos retos e 4 lados diferentes;
- ❖ Tenho 4 ângulos retos e 4 lados com medidas iguais;
- ❖ Tenho 2 ângulos agudos e 2 ângulos obtusos e os lados com medidas diferentes;

Resposta:




Dê o nome dos polígonos abaixo:

Respostas:



Hexágono



Trapézio


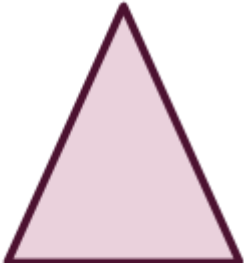



Paralelogramo



Triângulo

3 - [Desafio] Complete a tabela abaixo, utilizando régua e transferidor:

POLÍGONO	MEDIDA DO LADO (em centímetros)	MEDIDA DO ÂNGULO INTERNO (em graus)
		
		
		

Resolução:

Aqui será preciso medir, utilizando os instrumentos régua e transferidor. Não há como colocar uma resposta correta, pois depende do tamanho da impressão.