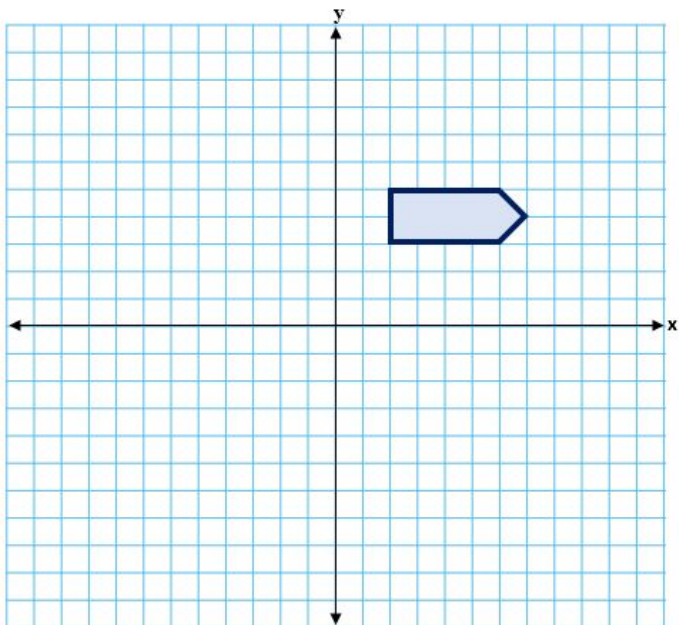


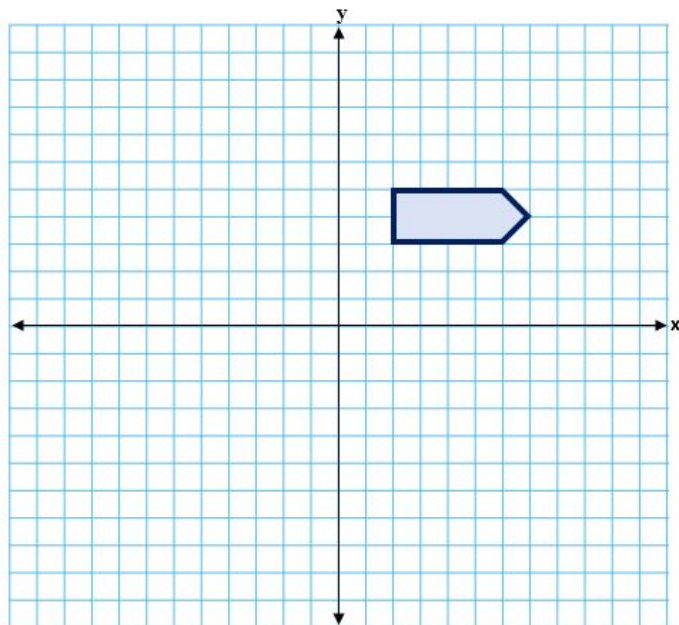
### Atividade de aquecimento - MAT7\_16GEO02

Nesta aula trabalharemos uma transformação isométrica chamada translação. Mas primeiro, vamos verificar se você lembra como reproduzir figura simétricas? Observe a imagem abaixo e reproduza uma simétrica a ela.



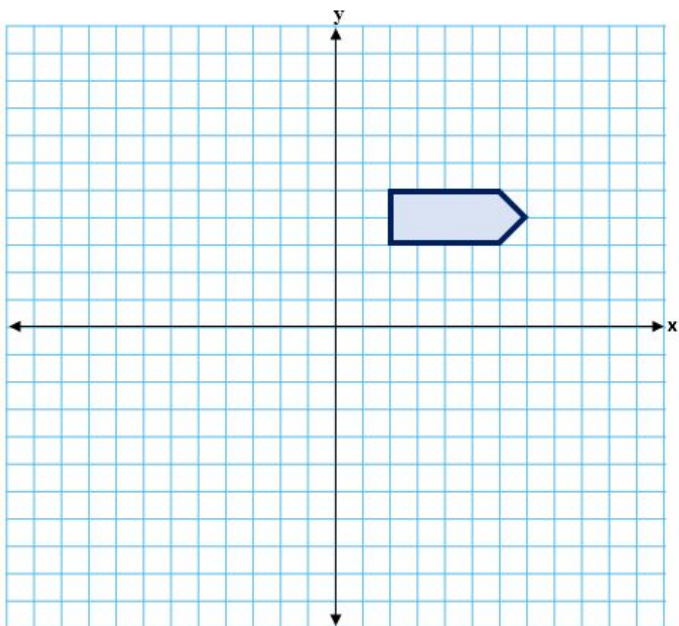
### Atividade de aquecimento - MAT7\_16GEO02

Nesta aula trabalharemos uma transformação isométrica chamada translação. Mas primeiro, vamos verificar se você lembra como reproduzir figura simétricas? Observe a imagem abaixo e reproduza uma simétrica a ela.



### Atividade de aquecimento - MAT7\_16GEO02

Nesta aula trabalharemos uma transformação isométrica chamada translação. Mas primeiro, vamos verificar se você lembra como reproduzir figura simétricas? Observe a imagem abaixo e reproduza uma simétrica a ela.



### Atividade de aquecimento - MAT7\_16GEO02

Nesta aula trabalharemos uma transformação isométrica chamada translação. Mas primeiro, vamos verificar se você lembra como reproduzir figura simétricas? Observe a imagem abaixo e reproduza uma simétrica a ela.

