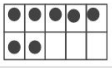
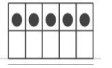

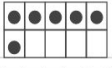


Resolução do Raio x -MAT02_04NUM07

Agora, descubra quantos pontos a mais são necessários para completar o número dado.

Espera-se que os alunos utilizem estratégias pessoais para descobrir quantos pontos a mais são necessários para formar o número 15.

Sendo assim:

	15	<i>mais 8 pontos.</i>
		<i>mais 10 pontos.</i>
		<i>mais 9 pontos.</i>
		<i>mais 7 pontos.</i>