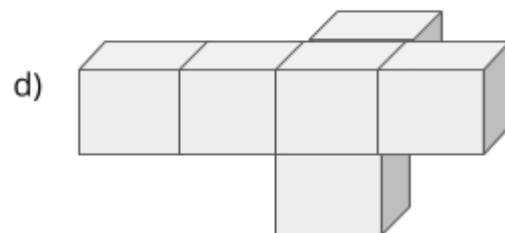
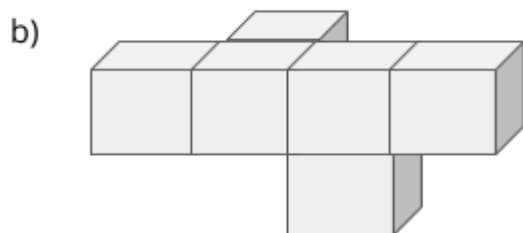
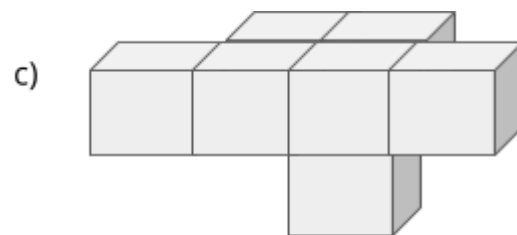
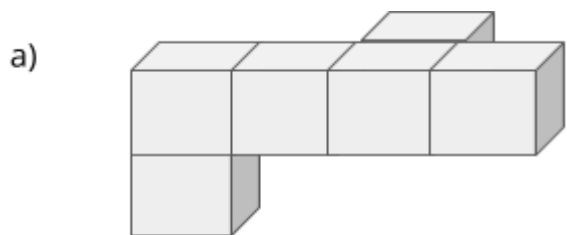
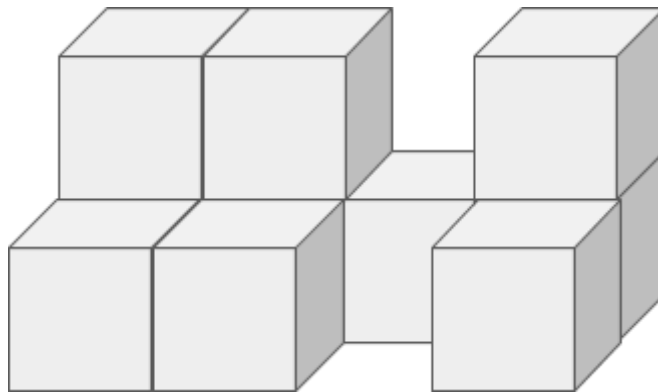


Observe a imagem abaixo formada por diversos cubinhos. Qual das opções abaixo se encaixa perfeitamente nela formando um paralelepípedo?



Agora responda às perguntas:

- A. Será que é possível encontrar mais de uma peça que se encaixa?
- B. Qual é o formato de um paralelepípedo?
- C. O que define um sólido para que ele seja um paralelepípedo?