







ATIVIDADES COMPLEMENTARES - MAT2_03NUM02

01. O NÚMERO 100 FOI DECOMPOSTO DE DIFERENTES FORMAS, COM FIGURA E COM ADIÇÃO. COMPLETE COM O VALOR QUE FALTA:

	$70 + 30 = \underline{\quad}$
	$40 + \underline{\quad} = \underline{\quad}$
	$\underline{\quad} + \underline{\quad} = 100$
	$30 + \underline{\quad} = \underline{\quad}$
	$\underline{\quad} + \underline{\quad} = \underline{\quad}$
	$60 + \underline{\quad} = \underline{\quad}$

02. VEJA AS ESTIMATIVAS DE ALGUNS ALUNOS SOBRE A QUANTIDADE DE BOLINHAS NO POTE E COMPLETE A TABELA.

NOME	ESTIMATIVA	DECOMPOSIÇÃO 1	DECOMPOSIÇÃO 2	DECOMPOSIÇÃO POR ORDEM
ALINE	385	$\underline{\quad} + \underline{\quad} + \underline{\quad}$	$\underline{\quad} + \underline{\quad}$	$\underline{\quad}$ CENTENAS $\underline{\quad}$ DEZENAS $\underline{\quad}$ UNIDADES
ANA	410	$\underline{\quad} + \underline{\quad} + \underline{\quad}$	$\underline{\quad} + \underline{\quad}$	$\underline{\quad}$ CENTENAS $\underline{\quad}$ UNIDADES
JOÃO	500	$\underline{\quad} + \underline{\quad} + \underline{\quad}$	$\underline{\quad} + \underline{\quad}$	$\underline{\quad}$ CENTENAS $\underline{\quad}$ UNIDADES

03. DESCUBRA O NÚMERO A PARTIR DA SUA DECOMPOSIÇÃO:

- A) TENHO 23 UNIDADES E 4 DEZENAS = _____
- B) TENHO 4 CENTENAS, 8 DEZENAS E 12 UNIDADES = _____
- C) 3 DEZENAS E 115 UNIDADES = _____