



COMO VOCÊ REPRESENTARIA NO ÁBACO O NÚMERO MAIS PRÓXIMO DE 3 000 (TRÊS MIL) USANDO SETE ARGOLAS?




---

COMO VOCÊ REPRESENTARIA NO ÁBACO O NÚMERO MAIS PRÓXIMO DE 3 000 (TRÊS MIL) USANDO SETE ARGOLAS?



---

COMO VOCÊ REPRESENTARIA NO ÁBACO O NÚMERO MAIS PRÓXIMO DE 3 000 (TRÊS MIL) USANDO SETE ARGOLAS?



---

COMO VOCÊ REPRESENTARIA NO ÁBACO O NÚMERO MAIS PRÓXIMO DE 3 000 (TRÊS MIL) USANDO SETE ARGOLAS?

