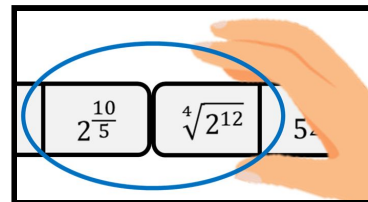


1- Que relação existe entre peças na forma de potenciação e peças na forma de radiciação?

2- Em uma partida do dominó das potenciações e radiciações, um participante fez a seguinte jogada. Explique se esta jogada está correta ou não.



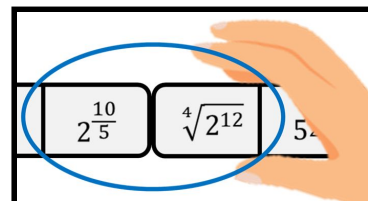
3- Existe alguma estratégia para ganhar vantagem durante o jogo?

4- Se você pudesse acrescentar regras a este jogo, qual(is) regra(s) acrescentaria?

---

1- Que relação existe entre peças na forma de potenciação e peças na forma de radiciação?

2- Em uma partida do dominó das potenciações e radiciações, um participante fez a seguinte jogada. Explique se esta jogada está correta ou não.



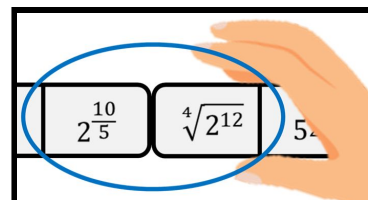
3- Existe alguma estratégia para ganhar vantagem durante o jogo?

4- Se você pudesse acrescentar regras a este jogo, qual(is) regra(s) acrescentaria?

---

1- Que relação existe entre peças na forma de potenciação e peças na forma de radiciação?

2- Em uma partida do dominó das potenciações e radiciações, um participante fez a seguinte jogada. Explique se esta jogada está correta ou não.



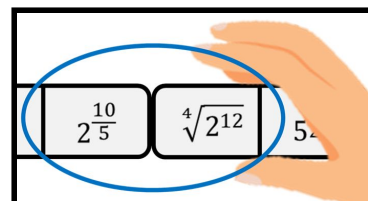
3- Existe alguma estratégia para ganhar vantagem durante o jogo?

4- Se você pudesse acrescentar regras a este jogo, qual(is) regra(s) acrescentaria?

---

1- Que relação existe entre peças na forma de potenciação e peças na forma de radiciação?

2- Em uma partida do dominó das potenciações e radiciações, um participante fez a seguinte jogada. Explique se esta jogada está correta ou não.



3- Existe alguma estratégia para ganhar vantagem durante o jogo?

4- Se você pudesse acrescentar regras a este jogo, qual(is) regra(s) acrescentaria?