






NO  DE MARIANA TEM  

ELA RESOLVEU DAR ALGUNS PEIXES PARA SUA MELHOR AMIGA.
AGORA, MARIANA FICOU COM 8 PEIXES NO SEU AQUÁRIO.

ESCOLHA A PERGUNTA QUE TE AJUDA A DESCOBRIR QUANTOS PEIXES MARIANA DEU PARA SUA MELHOR AMIGA. FAÇA UM "X". DEPOIS, RESOLVA O PROBLEMA.

() QUANTOS PEIXES MARIANA GANHOU?

() QUANTOS PEIXES A MELHOR AMIGA DE MARIANA GANHOU?

NO  DE MARIANA TEM  

ELA RESOLVEU DAR ALGUNS PEIXES PARA SUA MELHOR AMIGA.
AGORA, MARIANA FICOU COM 8 PEIXES NO SEU AQUÁRIO.

ESCOLHA A PERGUNTA QUE TE AJUDA A DESCOBRIR QUANTOS PEIXES MARIANA DEU PARA SUA MELHOR AMIGA. FAÇA UM "X". DEPOIS, RESOLVA O PROBLEMA.

() QUANTOS PEIXES MARIANA GANHOU?

() QUANTOS PEIXES A MELHOR AMIGA DE MARIANA GANHOU?
