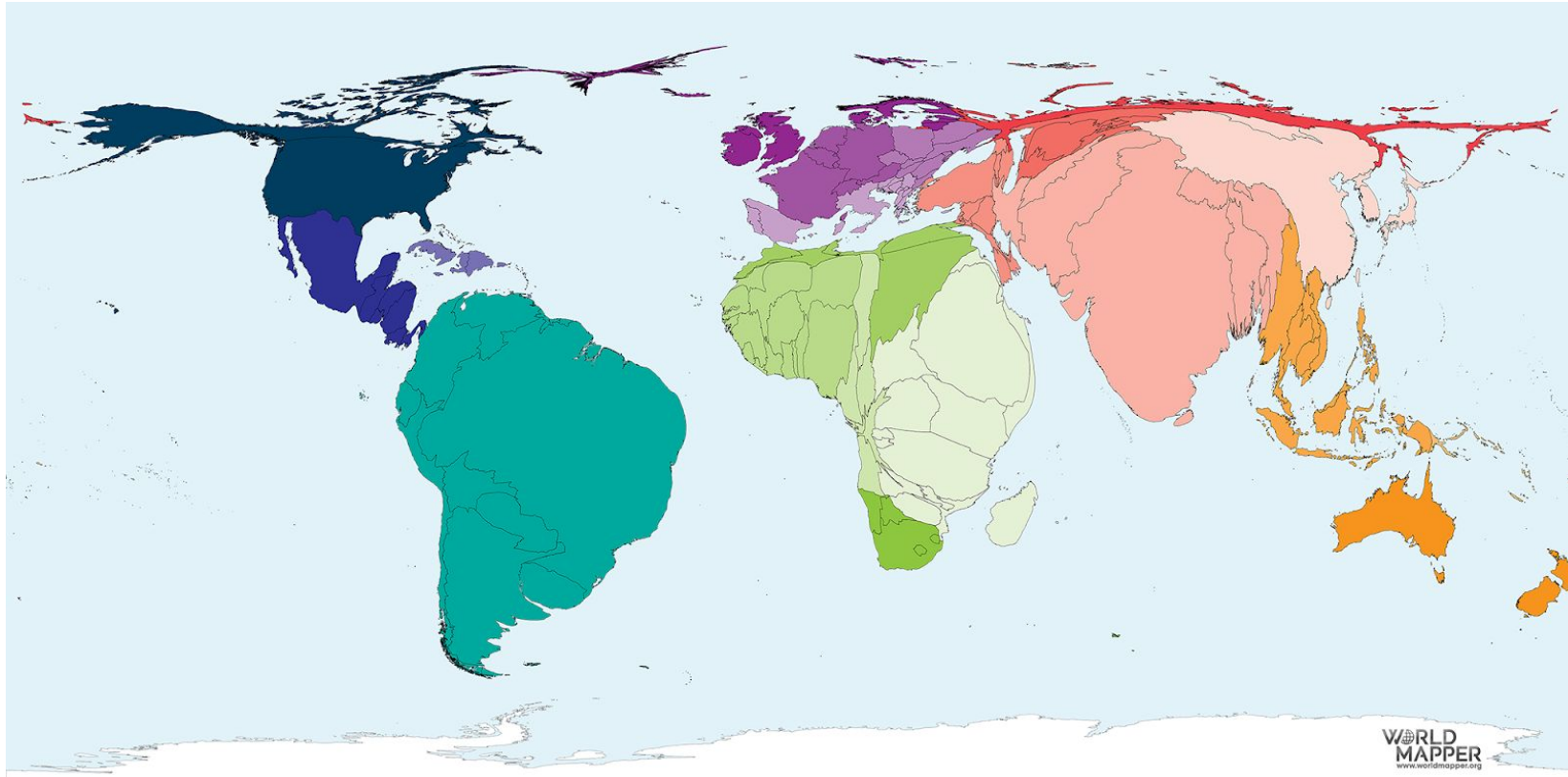


Ação Propositiva

Imagem 01: Criadores de Gado no mundo

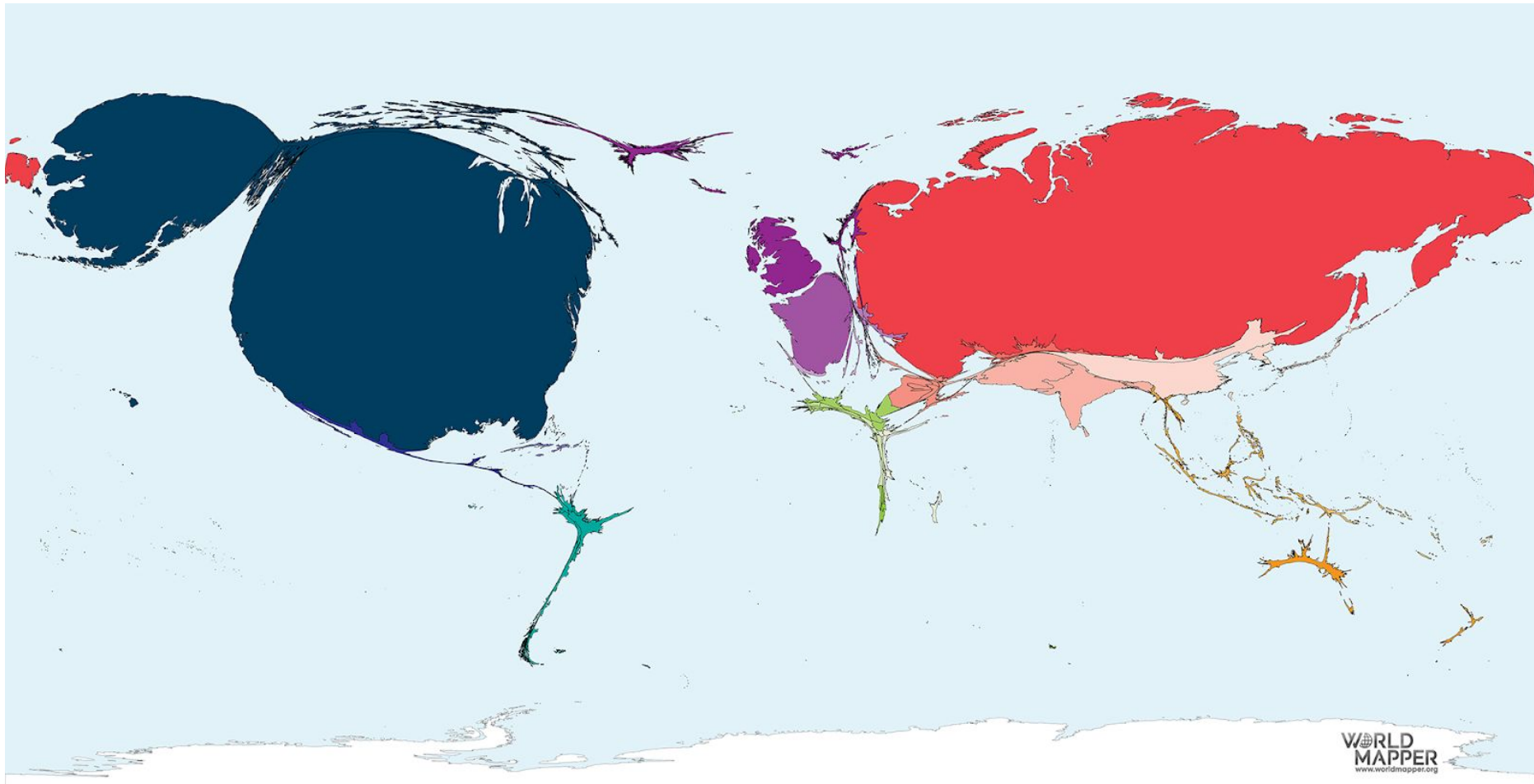


Fonte: **Cattle**. *World Mapper*. Disponível em: <https://worldmapper.org/maps/cattle-2016/?sf_action=get_data&sf_data=results&sft_product_cat=environment&sf_paged=5>. Acesso em: 27 jan. 2019.

Responda às questões abaixo:

- 1- O que o mapa está demonstrando?
- 2- Quais são os maiores produtores de gado do mundo?
- 3- Qual é o papel desempenhado mundialmente pelo Brasil?

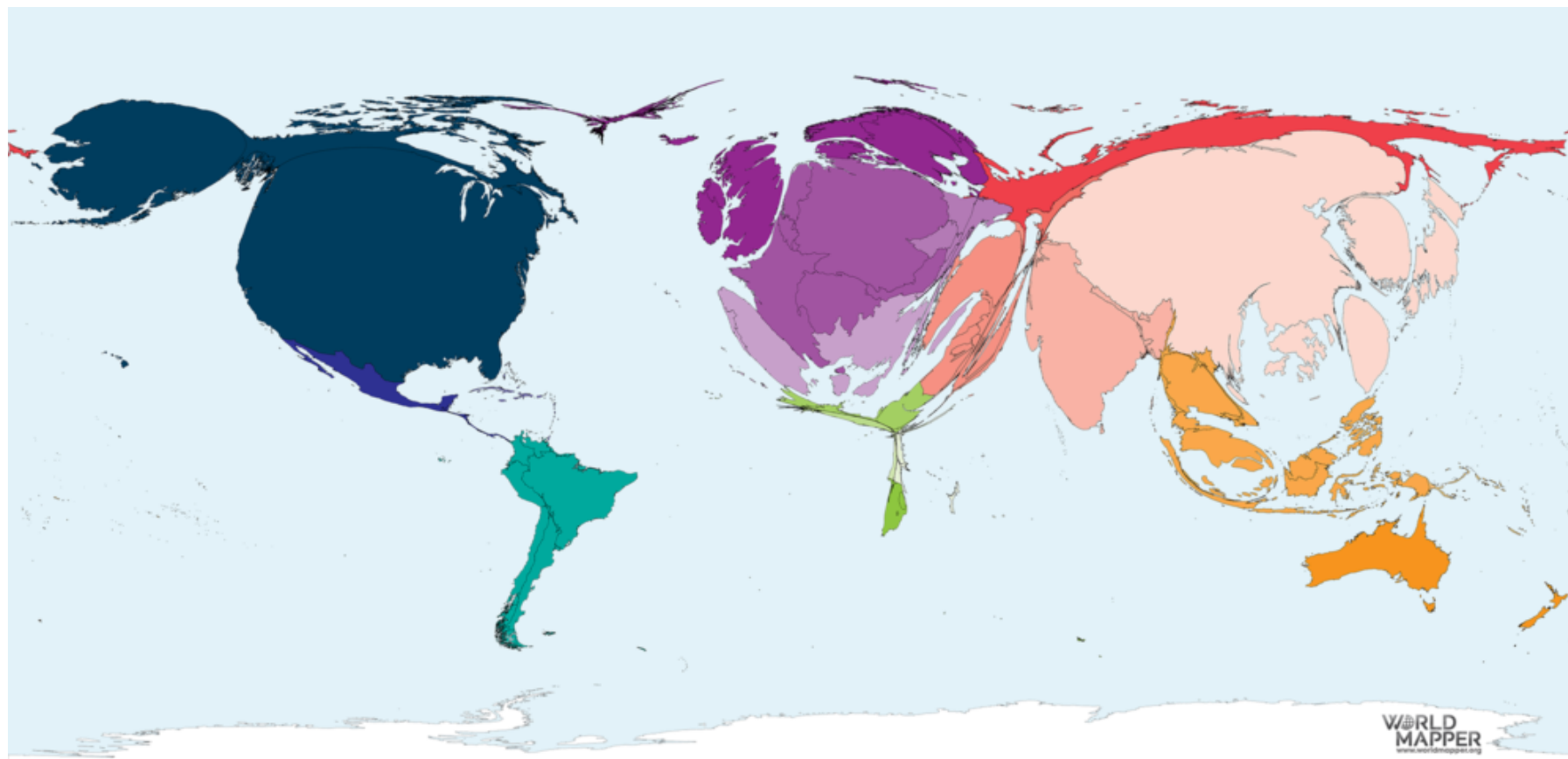
Imagem 02: Armas nucleares



Fonte: **Nuclear Weapons**. *World Mapper*. Disponível em: <https://worldmapper.org/maps/nuclear-weapons-2017/?sf_action=get_data&sf_data=results&_sft_product_cat=population,politics>. Acesso em: 27 jan. 2019.

Escreva um parágrafo sobre as principais informações presentes no mapa e sobre a importância desta tecnologia como condição para o desenvolvimento de um país.

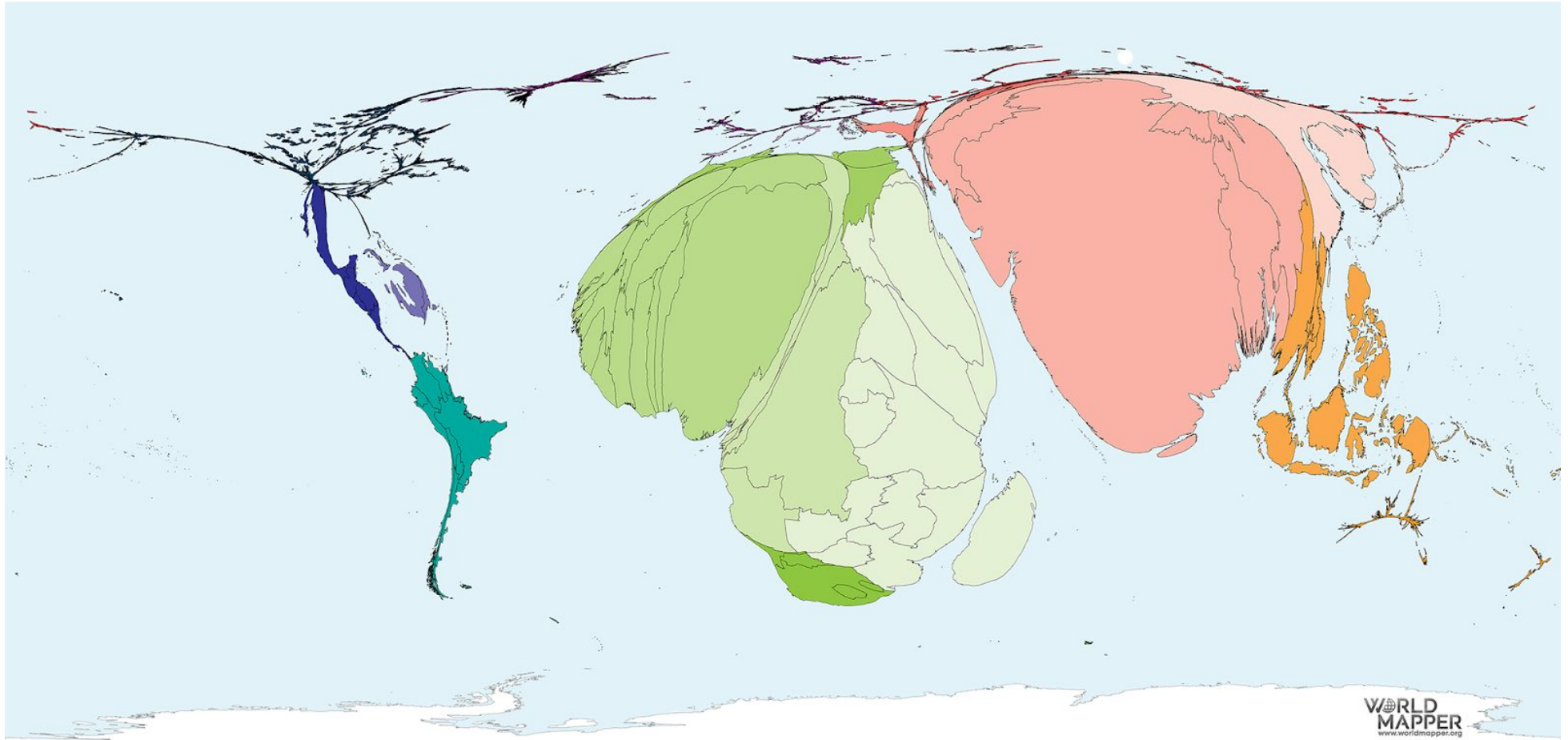
Imagem 03: Bilionários no mundo



Fonte: **Billionaires 2018**. *World Mapper*. Disponível em: <https://worldmapper.org/maps/inequality-billionaires-2018/?sf_action=get_data&sf_data=results&sf_product_cat=population,inequality>. Acesso em: 27 jan. 2019.

Compare e relacione o mapa de bilionários no mundo com o mapa da pobreza absoluta. Após, elabore um mapa conceitual que explique as desigualdades existentes entre os países, utilizando os seguintes conceitos: **países ricos, países pobres, indústria, tecnologia, gêneros primários, importação, exportação, desigualdades**.

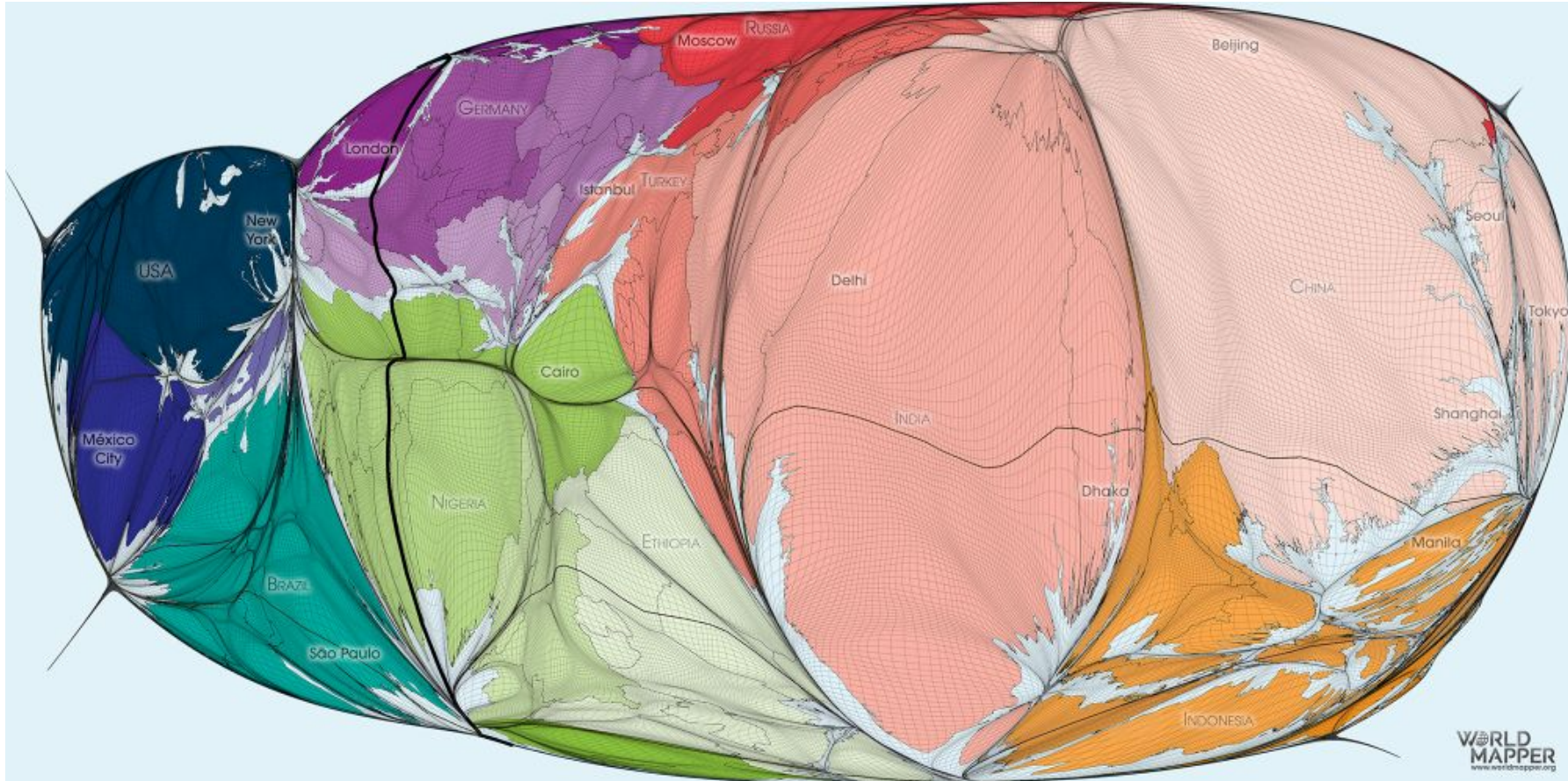
Imagem 04: Pobreza absoluta



Fonte: **Absolute Poverty**. *World Mapper*. Disponível em: <https://worldmapper.org/maps/absolute-poverty-2016/?sf_action=get_data&sf_data=results&_sft_product_cat=income>. Acesso em: 27 jan. 2019.

Compare e relacione o mapa de bilionários no mundo com o mapa da pobreza absoluta. Após, elabore um mapa conceitual que explique as desigualdades existentes entre os países, utilizando os seguinte conceitos: **países ricos, países pobres, indústria, tecnologia, gêneros primários, importação, exportação, desigualdades**.

Imagem 05: O planeta humano



Fonte: **The Human Planet**. *World Mapper*. Disponível em: <https://worldmapper.org/maps/human-planet/?sf_action=get_data&sf_data=results&sf_product_cat=population>. Acesso em: 27 jan. 2019.

Pinte os países do mapa utilizando uma gradação de cores quentes (amarelo, laranja, vermelho) para os mais populosos e frias (verde claro, verde escuro e roxo) para os menos populosos. Utilize o azul para os mares e oceanos.