



















1- Compare as massas (peso) de três filhotes de diferentes animais e informe qual deles é o mais pesado em cada espécie:

 45,05 kg	 45,1 kg	 44,99 kg
 78,31 kg	 78,224 kg	 78,197 kg
 1100,785 kg	 1100,699 kg	 1101 kg

1- Compare as massas (peso) de três filhotes de diferentes animais e informe qual deles é o mais pesado em cada espécie:

 45,05 kg	 45,1 kg	 44,99 kg
 78,31 kg	 78,224 kg	 78,197 kg
 1100,785 kg	 1100,699 kg	 1101 kg

2- Uma professora pediu para os alunos se organizarem em grupo de 04 alunos e comparasse seus tamanhos. Ajude o grupo a fazer as comparações dos tamanhos, completando com > ou <:



Mariana: 1,4 m



Carolina: 1,39m



Cauê: 1,42m



Maria: 1,37m

❖ Mariana \_\_\_\_ Carolina

❖ Carolina \_\_\_\_ Cauê

❖ Cauê \_\_\_\_ Maria

❖ Mariana \_\_\_\_ Maria

---

2- Uma professora pediu para os alunos se organizarem em grupo de 04 alunos e comparasse seus tamanhos. Ajude o grupo a fazer as comparações dos tamanhos, completando com > ou <:



Mariana: 1,4 m



Carolina: 1,39m



Cauê: 1,42m



Maria: 1,37m

❖ Mariana \_\_\_\_ Carolina

❖ Carolina \_\_\_\_ Cauê

❖ Cauê \_\_\_\_ Maria

❖ Mariana \_\_\_\_ Maria

3- Teobaldo tem uma cartela com seis números em um bingo. Sua professora sorteava números e dava dicas sobre ele. O aluno que tivesse esse número marcava em cartela. Veja abaixo as dicas de três números, dadas pela professora de Teobaldo e marque o número correspondente na cartela dele se existir.

- É um número menor que 1 e representa na ordem dos décimos o maior algarismo possível.

- Representa menos que 2,5 e mais que 2,3.

- É um número formado só por algarismos ímpares, é maior que um e menor que um inteiro e cinco décimos.

0,9	1,5	0,09
2,47	2,2	1,555

---

3- Teobaldo tem uma cartela com seis números em um bingo. Sua professora sorteava números e dava dicas sobre ele. O aluno que tivesse esse número marcava em cartela. Veja abaixo as dicas de três números, dadas pela professora de Teobaldo e marque o número correspondente na cartela dele se existir.

- É um número menor que 1 e representa na ordem dos décimos o maior algarismo possível.

- Representa menos que 2,5 e mais que 2,3.

- É um número formado só por algarismos ímpares, é maior que um e menor que um inteiro e cinco décimos.

0,9	1,5	0,09
2,47	2,2	1,555