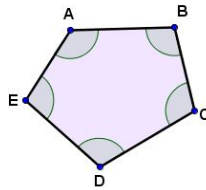


Os ângulos internos do polígono abaixo já estão marcados. Agora vamos identificar seus **ângulos externos**:

1º) Prolongue seus lados com o auxílio de uma régua a partir de cada vértice e sempre no mesmo sentido.

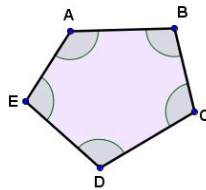
2º) Marque os ângulos formados pelo prolongamento de cada lado e o lado adjacente a ele.



Os ângulos internos do polígono abaixo já estão marcados. Agora vamos identificar seus **ângulos externos**:

1º) Prolongue seus lados com o auxílio de uma régua a partir de cada vértice e sempre no mesmo sentido.

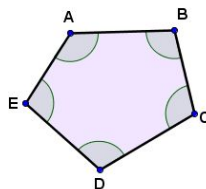
2º) Marque os ângulos formados pelo prolongamento de cada lado e o lado adjacente a ele.



Os ângulos internos do polígono abaixo já estão marcados. Agora vamos identificar seus **ângulos externos**:

1º) Prolongue seus lados com o auxílio de uma régua a partir de cada vértice e sempre no mesmo sentido.

2º) Marque os ângulos formados pelo prolongamento de cada lado e o lado adjacente a ele.



Os ângulos internos do polígono abaixo já estão marcados. Agora vamos identificar seus **ângulos externos**:

1º) Prolongue seus lados com o auxílio de uma régua a partir de cada vértice e sempre no mesmo sentido.

2º) Marque os ângulos formados pelo prolongamento de cada lado e o lado adjacente a ele.

