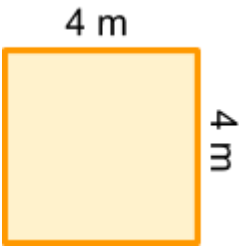




Atividade de Aquecimento MAT7_14ALG04

Sr. Joaquim é um pedreiro cobra R\$ 120,00 por metro quadrado para o serviço de colocar pisos e revestimento em ambientes quadriláteros.

Qual é a expressão algébrica que representa o orçamento para uma área de dimensões quaisquer?

Utilize a expressão algébrica que você escreveu e ajude o Sr. Joaquim a calcular o orçamento para as áreas seguintes.




Orçamento 1	Orçamento 2	Orçamento 3
 <p>4 m</p> <p>4 m</p>	 <p>3 m</p> <p>5 m</p>	 <p>7 m</p> <p>2 m</p>

Atividade de Aquecimento MAT7_14ALG04

Sr. Joaquim é um pedreiro cobra R\$ 120,00 por metro quadrado para o serviço de colocar pisos e revestimento em ambientes quadriláteros.

Qual é a expressão algébrica que representa o orçamento para uma área de dimensões quaisquer?

Utilize a expressão algébrica que você escreveu e ajude o Sr. Joaquim a calcular o orçamento para as áreas seguintes.

Orçamento 1	Orçamento 2	Orçamento 3
 <p>4 m</p> <p>4 m</p>	 <p>3 m</p> <p>5 m</p>	 <p>7 m</p> <p>2 m</p>