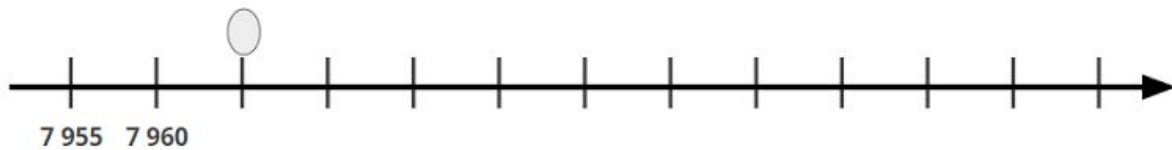
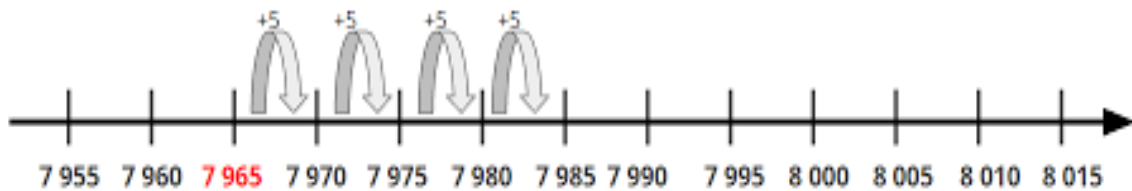


## Resolução da Atividade de Raio X - MAT3\_03NUM04

Observe a reta numerada. O ponto indica a quantidade de pontos de Marcos no início do jogo. Durante a partida ele ganhou 20 pontos. Com quantos pontos finalizou esse jogo? Em que ponto da reta ele parou?



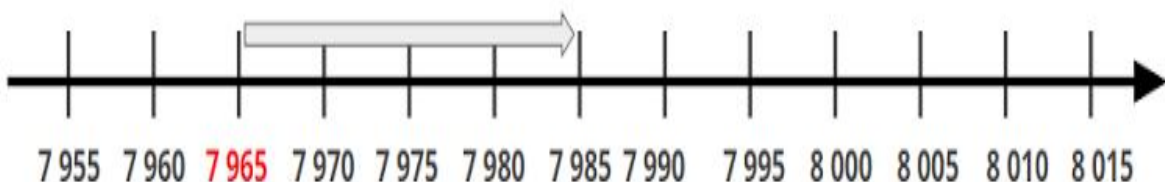
### Solução 1:



Os números na reta estão dispostos de 5 em 5. Aqui o aluno contou termo a termo até chegar no número 7 985.

$$7\ 965 + 5 + 5 + 5 + 5 = 7\ 985$$

### Solução 2:



Os números na reta estão dispostos de 5 em 5. Aqui o aluno realizou apenas um deslocamento.

$$7\ 965 + 20 = 7\ 985$$

**Observação:** Podem haver outras soluções.