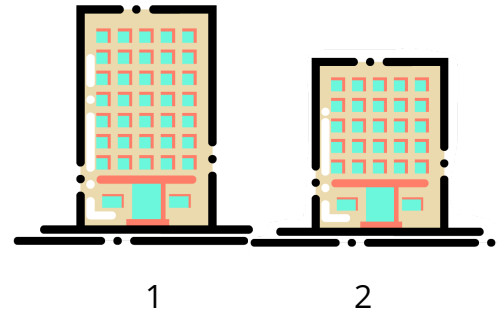
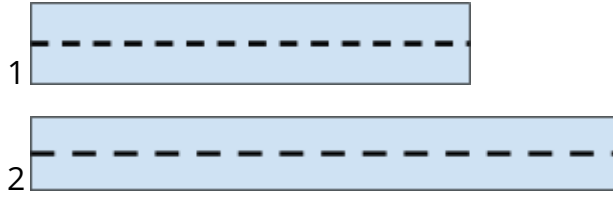
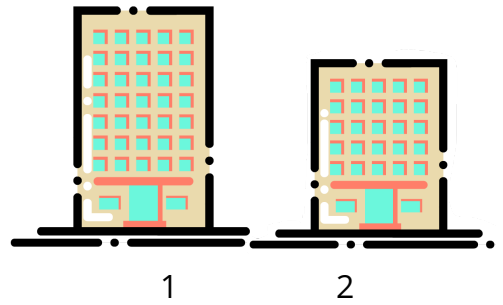
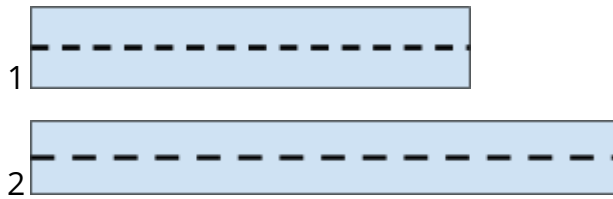


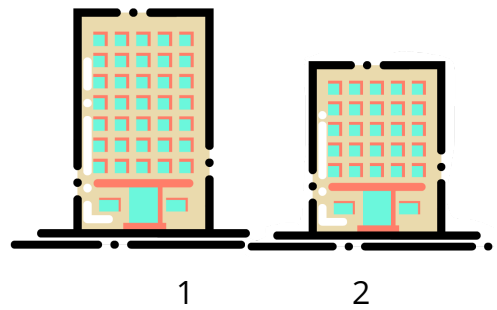
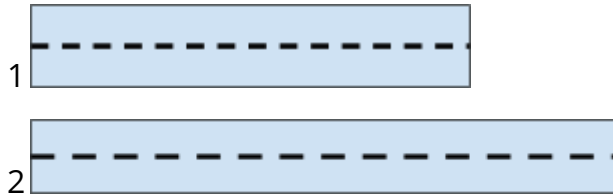
DISCUTA COM SEU GRUPO A DIFERENÇA DE MEDIDA ENTRE OS DOIS PRÉDIOS E OS DOIS CAMINHOS.



DISCUTA COM SEU GRUPO A DIFERENÇA DE MEDIDA ENTRE OS DOIS PRÉDIOS E OS DOIS CAMINHOS.



DISCUTA COM SEU GRUPO A DIFERENÇA DE MEDIDA ENTRE OS DOIS PRÉDIOS E OS DOIS CAMINHOS.



DISCUTA COM SEU GRUPO A DIFERENÇA DE MEDIDA ENTRE OS DOIS PRÉDIOS E OS DOIS CAMINHOS.

