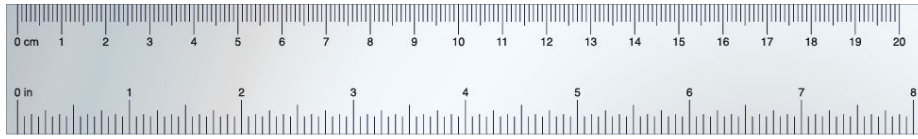
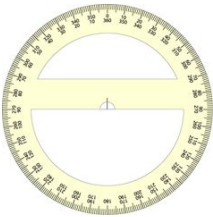


## ATIVIDADES COMPLEMENTARES MAT1\_09GEO09

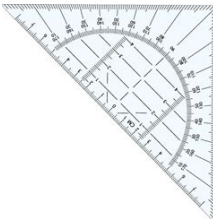
1) OBSERVE AS FIGURAS ABAIXO, PENSE EM SUAS CARACTERÍSTICAS E ESCOLHA A CORRETA.



- 3 lados e 3 vértices
- 4 lados e 4 vértices
- sem lados e sem vértices



- 3 lados e 3 vértices
- 4 lados e 4 vértices
- sem lados e sem vértices



- 3 lados e 3 vértices
- 4 lados e 4 vértices
- sem lados e sem vértices

2) ALGUMAS FIGURAS PLANAS POSSUEM LINHAS RETAS OUTRAS NÃO. LEIA AS CARACTERÍSTICAS E DESENHE A FIGURA PLANA CORRESPONDENTE.

NÃO TENHO LINHAS RETAS	POSSUO 3 LINHAS RETAS	TENHO 4 LINHAS RETAS
------------------------	-----------------------	----------------------

**3) DESAFIO:** VAMOS VER O QUE ACONTECE! CONSTRUA DESENHOS A PARTIR DAS FIGURAS PLANAS. PARA COMPOR O SEU DESENHO VOCÊ PODE UTILIZAR OUTRAS FIGURAS PLANAS.

