



Atividades Complementares_MAT5_05NUM8

1. Carolina quer comprar um chocolate que custa R\$1,00. Porém não tem uma moeda de R\$1,00, apenas as moedas apresentadas abaixo. Quantas das moedas representadas, Carolina pode utilizar para comprar o chocolate? Represente o valor que ela possui no quadro de ordens.



Unidades				Decimais		
Centena	Dezena	Unidade	,	Décimo	Centésimo	Milésimo


2. Vamos ajudar Karina a resolver essa situação e representar o valor que ela tinha no cofrinho no quadro de ordens abaixo?



Durante um tempo, guardei em meu cofrinho apenas moedas de R\$0,10. Ao abri-lo, percebi que tinha as moedas ao lado. Registre o valor que elas representam no quadro de ordens.

Unidades				Decimais		
Centena	Dezena	Unidade	,	Décimo	Centésimo	Milésimo

Desafio



Unidades				Decimais		
Centena	Dezena	Unidade	,	Décimo	Centésimo	Milésimo

Observe as peças que separei do material dourado. Me ajude a representar o número formado por elas no quadro de ordens?

