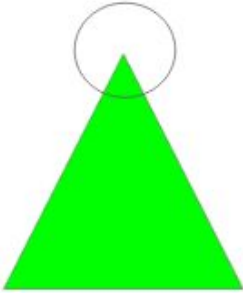


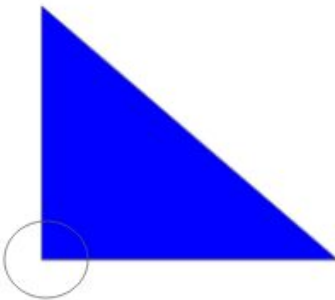
1) Observe as imagens dos triângulos abaixo e nomeie os ângulos em reto, obtuso ou agudo:

a)



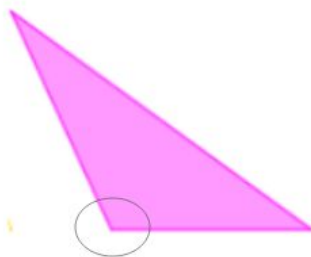
---

b)



---

c)



---

2) Rafaela está indo para casa depois de uma manhã de estudos na escola. Quando estava chegando em casa notou que havia esquecido sua mochila. Se ela der meia-volta e retornar para a escola qual figura ela enxergará?

