
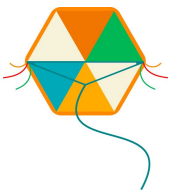




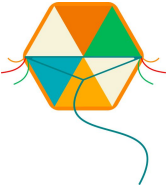
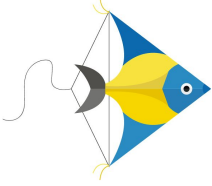

CLAUDIO FAZ TODOS OS DIAS 100 PIPAS. SENDO QUE: 12 ARRAIAS, 23 CAPUCHETAS, 50 PEIXINHOS E 15 PAPAGAIOS.

ELE QUER CONTROLAR A SUA PRODUÇÃO E PARA ISSO VOCÊ DEVE CRIAR UM GRÁFICO PARA AJUDÁ-LO.



**AGORA RESPONDA:**

- QUANTAS PIPAS CLÁUDIO FAZ EM UMA SEMANA?
- CLÁUDIO RECEBEU UMA ENCOMENDA DE: 110 PEIXINHOS, 40 CAPUCHETAS, 13 ARRAIAS E 20 PAPAGAIOS. QUANTO TEMPO ELE LEVARÁ PARA ENTREGAR ESSA ENCOMENDA?
- CLAUDIO VENDE OS PIPAS DE ACORDO COM OS VALORES DA TABELA ABAIXO. OBSERVE A TABELA E DESCUBRA QUAL O VALOR ARRECADADO DIARIAMENTE CASO CLÁUDIO VENDA TODA SUA PRODUÇÃO.

TIPOS DE PIPAS	VALORES UNITÁRIOS
	R\$1,00
	R\$0,50
	R\$ 0,50
	R\$ 1,00