

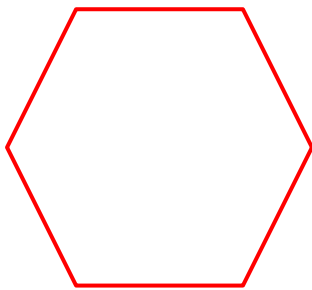
Resolução da Atividade de Raio X

Leia as informações e faça o que se pede.

- a) Sou um polígono com seis ângulos internos. Escreva o meu nome e me desenhe.

"O polígono não precisa ter os lados iguais e nem ser desenhado nesta posição."

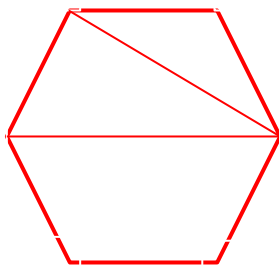
Resposta: Hexágono



- b) Enumere todos os meus vértices, ligue os vértices 1 e 3, 3 e 6. Qual o nome dos polígonos formados?

"O aluno deverá escolher qual vértice será o de número 1, mas devem ser colocados em sequência."

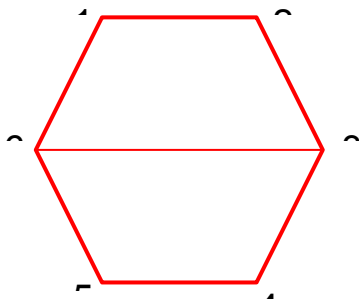
Resposta: 1 quadrilátero e 2 triângulos



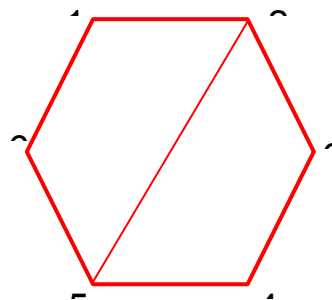
- c) Para formar dois quadriláteros, quais vértices da figura devemos ligar?
Desenhar todas as opções.

“O aluno deverá escolher qual vértice será o de número 1, mas devem ser colocados em sequência.”

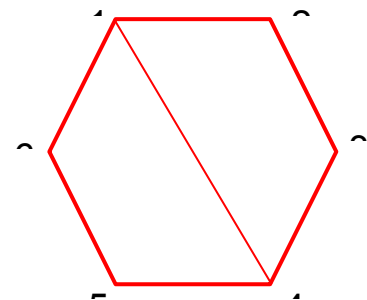
Resposta:



vértices 3 e 6



vértices 2 e 5



vértices 1 e 4