




Resoluções da Atividade Principal - MAT2_24PES05

RITA UTILIZA UMA LUNETAS PARA OBSERVAR SUPERLUAS! REGINA VERIFICA O FENÔMENO A OLHO NU E ALGUMAS CRIANÇAS DO SEGUNDO K PREFEREM BINÓCULOS. REGINA QUERIA ORGANIZAR ESTES DADOS E REGISTROU AS RESPOSTAS DE DUAS MANEIRAS. RITA DISSE QUE ELA HAVIA CONSTRUÍDO UM GRÁFICO. VAMOS AJUDÁ-LA A ACRESCENTAR AS INFORMAÇÕES QUE FALTAM?

OLHO NU:	
LUNETAS:	
BINÓCULO:	

Soluções possíveis:

É possível que as crianças esqueçam de registrar um ou outro elemento constitutivo do gráfico. Por isso, é importante deixar exposto o gráfico inicial e realizar comentários sempre que circular entre as crianças no ato da atividade:

- Você acha que seu gráfico está completo?
- Esta barra significa o quê? Se não tiver escrito tem como outra pessoa de outra sala saber do que se trata?

