







**OBSERVE A TABELA ABAIXO E RESPONDA AS QUESTÕES A SEGUIR:**

SITUAÇÃO				
				
FICAR LONGE DOS PAIS	3	7	9	11
TROPEÇAR E CAIR	9	3	3	15
ENTENDER A MATÉRIA	12	18	0	0
AJUDAR A PROFESSORA	8	17	4	1
BRINCAR NO PARQUINHO	11	17	1	1
PERDER EM UM JOGO	2	16	10	2
RECEBER ELOGIOS	9	17	3	1
PERDER UM MATERIAL	3	0	9	18
BRIGAR COM ALGUÉM	1	0	11	18

**QUESTÃO 01**

- QUANTAS MENINAS TÊM NESTA SALA? E QUANTOS MENINOS?
- QUAIS SITUAÇÕES NÃO DEIXAM A MAIOR QUANTIDADE DE MENINAS FELIZES?
- QUAL SITUAÇÃO NÃO DEIXOU NENHUM MENINO TRISTE?

**QUESTÃO 02 -**

- QUE TÍTULO VOCÊ DARIA A ESTA TABELA?
- QUAL É A FONTE DESTA TABELA?

**QUESTÃO 3 - (DESAFIO)**

CRIE UMA PERGUNTA QUE POSSA SER RESPONDIDA AO ANALISAR A TABELA E DEPOIS RESPONDA AO SEU QUESTIONAMENTO!